




最高位戦




日本プロ麻雀協会

第 48 期前期プロ試験 2023/2/12

制限時間 50 分

【解答記入例】

 ⇒ 一二三  ⇒ ④⑤⑥  ⇒ 7 8 9

   ⇒ 東南西北白発中

上記の通り記入すること

- ・問題は全て当協会規定に拠るものとする
- ・誤植等の質問以外は一切認めない
- ・回答は全て解答用紙に記入すること
- ・解答用紙に受験番号、氏名を記入して待つこと
- ・試験開始後、問題用紙の確認をすること（表紙含め 5 枚）

問題 1 (1点×5)

次の競技規定に関する文章で、正しい記号を答えよ。

- ① 副露手順は発声→(A.開示→打牌→取牌 B.開示→取牌→打牌 C.取牌→開示→打牌)である。
- ② 順位点は、(A.10-30 B.10-20 C.5-15)である。
- ③ 流し満貫は、(A.鳴かれなければ成立 B.鳴かれても成立 C.ない)。
- ④ 役満の責任払いは、(A.2種類ある B.3種類ある C.ない)。
- ⑤ 座位の確定後、起親決めサイコロは(A.ない B.1度振り C.2度振り)。

問題 2 (1点×4)

以下の麻雀用語を漢字にせよ。

当会競技規定に則って楷書で正確に記すこと。 ※ () 内は漢字文字数

- ① ハイテイモウユエ (4) ② チュウレンポウトウ (4)
- ③ メンゼンツモ (6) ④ ドラ (3)

問題 3 (1点×3)

以下に該当する最高位戦会員名を登録名の通り記せ。

楷書で正確に記すこと。登録名が漢字の場合、ひらがな表記は不可とする。

- ① 現最高位 ② 現女流最高位
- ③ 当会代表

問題 4 (2点×4)

テンパイになる牌は何種何牌か答えよ。

例

一萬	二萬	三萬	四萬	五萬	六萬	七萬	八萬	九萬	東	東
----	----	----	----	----	----	----	----	----	---	---

 6種20牌

- ①

二萬	三萬	三萬	四萬	四萬	伍萬	七萬	八萬	八萬	九萬	九萬	東	東
----	----	----	----	----	----	----	----	----	----	----	---	---
- ②

八萬	八萬	八萬	八萬	八萬	八萬	八萬	八萬	八萬	八萬	八萬	八萬	八萬
----	----	----	----	----	----	----	----	----	----	----	----	----
- ③

三萬	四萬	四萬	四萬	四萬	四萬	四萬	四萬	四萬	四萬	四萬	四萬	四萬
----	----	----	----	----	----	----	----	----	----	----	----	----
- ④

四萬	四萬	伍萬	伍萬	伍萬	六萬	六萬	七萬	八萬	八萬	八萬	八萬	八萬
----	----	----	----	----	----	----	----	----	----	----	----	----

問題 6 (2 点×15)

次の牌姿が何待ちかを答えよ。ただし 4 枚使いの牌は書かないこと。

例

二萬	三萬	四萬	一筒	二筒	三筒	四筒	五筒	六筒	七筒	八筒	九筒	東	東	西	西	西
----	----	----	----	----	----	----	----	----	----	----	----	---	---	---	---	---

1 4

- ①

二萬	三萬	四萬	一筒	二筒	三筒	四筒	五筒	六筒	七筒	八筒	九筒	東	東	西	西	西
----	----	----	----	----	----	----	----	----	----	----	----	---	---	---	---	---
- ②

二萬	三萬	四萬	一筒	二筒	三筒	四筒	五筒	六筒	七筒	八筒	九筒	東	東	西	西	西
----	----	----	----	----	----	----	----	----	----	----	----	---	---	---	---	---
- ③

東	西	南	北	一筒	二筒	三筒	四筒	五筒	六筒	七筒	八筒	九筒	東	東	西	西
---	---	---	---	----	----	----	----	----	----	----	----	----	---	---	---	---
- ④

二萬	三萬	四萬	一筒	二筒	三筒	四筒	五筒	六筒	七筒	八筒	九筒	東	東	西	西	西
----	----	----	----	----	----	----	----	----	----	----	----	---	---	---	---	---
- ⑤

二萬	三萬	四萬	一筒	二筒	三筒	四筒	五筒	六筒	七筒	八筒	九筒	東	東	西	西	西
----	----	----	----	----	----	----	----	----	----	----	----	---	---	---	---	---
- ⑥

二萬	三萬	四萬	一筒	二筒	三筒	四筒	五筒	六筒	七筒	八筒	九筒	東	東	西	西	西
----	----	----	----	----	----	----	----	----	----	----	----	---	---	---	---	---
- ⑦

東	西	南	北	一筒	二筒	三筒	四筒	五筒	六筒	七筒	八筒	九筒	東	東	西	西
---	---	---	---	----	----	----	----	----	----	----	----	----	---	---	---	---
- ⑧

東	西	南	北	一筒	二筒	三筒	四筒	五筒	六筒	七筒	八筒	九筒	東	東	西	西
---	---	---	---	----	----	----	----	----	----	----	----	----	---	---	---	---
- ⑨

二萬	三萬	四萬	一筒	二筒	三筒	四筒	五筒	六筒	七筒	八筒	九筒	東	東	西	西	西
----	----	----	----	----	----	----	----	----	----	----	----	---	---	---	---	---
- ⑩

二萬	三萬	四萬	一筒	二筒	三筒	四筒	五筒	六筒	七筒	八筒	九筒	東	東	西	西	西
----	----	----	----	----	----	----	----	----	----	----	----	---	---	---	---	---
- ⑪

二萬	三萬	四萬	一筒	二筒	三筒	四筒	五筒	六筒	七筒	八筒	九筒	東	東	西	西	西
----	----	----	----	----	----	----	----	----	----	----	----	---	---	---	---	---
- ⑫

二萬	三萬	四萬	一筒	二筒	三筒	四筒	五筒	六筒	七筒	八筒	九筒	東	東	西	西	西
----	----	----	----	----	----	----	----	----	----	----	----	---	---	---	---	---
- ⑬

二萬	三萬	四萬	一筒	二筒	三筒	四筒	五筒	六筒	七筒	八筒	九筒	東	東	西	西	西
----	----	----	----	----	----	----	----	----	----	----	----	---	---	---	---	---
- ⑭

二萬	三萬	四萬	一筒	二筒	三筒	四筒	五筒	六筒	七筒	八筒	九筒	東	東	西	西	西
----	----	----	----	----	----	----	----	----	----	----	----	---	---	---	---	---
- ⑮

二萬	三萬	四萬	一筒	二筒	三筒	四筒	五筒	六筒	七筒	八筒	九筒	東	東	西	西	西
----	----	----	----	----	----	----	----	----	----	----	----	---	---	---	---	---

問題 7 (2 点×4)

テンパイチャンスを最も多くする一打を全て答えよ。

例

一萬	二萬	三萬	四萬	五萬	六萬	七萬	八萬	九萬	東	南	西	北
----	----	----	----	----	----	----	----	----	---	---	---	---

⑤

①

伍萬	六萬	七萬	八萬	九萬	東	南	西	北
----	----	----	----	----	---	---	---	---

②

一萬	二萬	三萬	四萬	五萬	六萬	七萬	八萬	九萬	東	南	西	北
----	----	----	----	----	----	----	----	----	---	---	---	---

③

二萬	四萬	六萬	七萬	八萬	九萬	東	南	西	北
----	----	----	----	----	----	---	---	---	---

④

二萬	三萬	三萬	四萬	四萬	伍萬	六萬	六萬	七萬	七萬	八萬	八萬	九萬	九萬
----	----	----	----	----	----	----	----	----	----	----	----	----	----

問題 8 (2 点×3)

待ち牌の枚数を最も多くする一打を全て答えよ。

①

一萬	二萬	三萬	三萬	四萬	四萬	伍萬	伍萬	六萬	六萬	七萬	七萬	八萬	九萬
----	----	----	----	----	----	----	----	----	----	----	----	----	----

②

一萬	一萬	一萬	二萬	二萬	三萬	三萬	四萬	四萬	六萬	六萬	七萬	七萬	八萬
----	----	----	----	----	----	----	----	----	----	----	----	----	----

③

一萬	二萬	三萬	四萬	四萬	伍萬	六萬	六萬	六萬	七萬	八萬	八萬	八萬	九萬
----	----	----	----	----	----	----	----	----	----	----	----	----	----

問題 9 (2 点×3)

南 4 局 3 本場・供託 1

東家 35000 南家 29000 西家 20300 北家 34700

この点数状況において、以下の条件を満たす最低点数を 50 符以下の点数 で答えよ。

積み棒分は入れずに答えること。例 300/500

- ① 南家がツモで単独 1 位になる条件
- ② 西家がツモで単独 3 位になる条件
- ③ 西家が南家からのロンで単独 3 位になる条件

問題は以上