


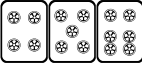
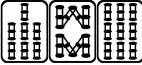
最高位戦


日本プロ麻雀協会

第46期後期プロ試験 2021/7/3

制限時間 50分

【解答記入例】

 ⇒ 一二三  ⇒ ④⑤⑥  ⇒ 7 8 9

 ⇒ 東南西北白發中

上記の通り記入すること

- ・問題は全て当協会規定に拠るものとする
- ・誤植等の質問以外は一切認めない
- ・回答は全て解答用紙に記入すること
- ・解答用紙に受験番号、氏名を記入して待つこと
- ・試験開始後、問題用紙の確認をすること（表紙含め5枚）

問題 1 (1 点×5)

次の競技規定に関する文章で、正しい記号を答えよ。

- ① 各人の持ち点を (A.25,000 B.27,000 C.30,000) 点とし、これを原点とする。
- ② チョンボのペナルティは (A.マンガン払い B.20P 減算 C.40P 減算)。
- ③ 嶺上開花と海底摸月は (A.常に複合しない B.常に複合する C.メンゼン時のみ複合する)。
- ④ 多牌は (A.アガリ放棄 B.チョンボ)。
- ⑤ 場所決めは、(A.掴み取り B.1 度振り C.2 度振り)。

問題 2 (1 点×4)

以下の麻雀用語を漢字にせよ。

当会競技規定に則って楷書で正確に記すこと。 ※ () 内は漢字文字数

- ① チュウレンポウトウ (4) ②サンチャ (2)
- ② チャンカン (2) ④メンゼンツモ (6)

問題 3 (1 点×3)


以下に該当する最高位戦会員名を登録名の通り記せ。




楷書で正確に記すこと。登録名が漢字の場合、ひらがな表記は不可とする。

- ① 現最高位 ②現女流最高位
- ② M リーグ・セガサミーフェニックス所属の女流選手

問題 4 (2 点×4)

テンパイになる牌は何種何牌か答えよ。

例  6 種 20 牌

- ① 
- ② 
- ③ 
- ④ 