
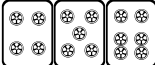



最高位戦


日本プロ麻雀協会

第45期後期プロ試験 制限時間50分

【解答記入例】

 ⇒ 一二三  ⇒ ④⑤⑥  ⇒ 7 8

9

 ⇒ 東南西北白発中

上記の通り記入すること

- ・問題は全て当協会規定に拠るものとする
- ・誤植等の質問以外は一切認めない
- ・回答は全て解答用紙に記入すること
- ・解答用紙に受験番号、氏名を記入して待つこと
- ・試験開始後、問題用紙の確認をすること（表紙含め6枚）

問題 1 (1 点 × 10)

次の競技規定に関する文章で、正しいものには○、間違っているものには×を解答欄に記入せよ。例 麻雀牌は一式 140 枚を用いる・・・×

- ① 競技行為を対局者に告知する為の行為は次の 5 つである。
1.吃(チー) 2.碰(ポン) 3.槓(カン) 4.栄和(ロン) 5.自摸和(ツモ)
- ② 競技中に疑義が生じた場合は、立会人の裁定に従う。
- ③ 開門後の壁牌末尾より数えて 14 枚を残し、これを王牌という。
王牌直前の牌を海底牌という。海底牌を摸した者は槓子をつくることができる。
- ④ 牌をよくかき混ぜる行為を混牌という。
- ⑤ 一局は親のサイコロの第一投を以って開始とする。
- ⑥ 取牌行為は次の 5 種とする。
1.〔ツモ〕 2.〔チー〕 3.〔ポン〕 4.〔カン〕 5.〔アガリ〕。
- ⑦ 親が下家に移動することを連荘という。
- ⑧ 槓(カン)は暗槓と明槓と大明槓の 3 種類がある。
- ⑨ リーチ後はアガリの見送りができない。
- ⑩ アガリの形式は 6 種である。

問題 2 (1 点 × 5)

以下の麻雀用語を漢字にせよ。

- ① リンシャンカイホウ ②サンチャ ③フウテイ
- ④ チュウレンポウトウ ⑤カンツ

問題 3 (1 点 × 5)

以下の麻雀用語の読み方をカタカナにせよ。

- ① 壁牌 ②摸打 ③起家
- ④ 碰 ⑤副露

問題 4 (2点×10)

次の条件で、アガリが何点か答えよ。全て手牌にドラはなく、リーチはしていないものとする。

例 1 ツモ (東場西家) 300/500

例 2 ツモ (東場東家) 500 オール

① ツモ (東場東家)

② ツモ (東場西家)

③ ツモ (東場南家)

④ ツモ (東場東家)

⑤ ツモ (東場北家)

⑥ 七萬 ロン (南場東家)

⑦ ツモ (東場東家)

⑧ ロン (東場東家)

⑨ ツモ (南場西家)

⑩ ツモ (南場南家)

問題 5 (2 点 × 10)

次の牌姿が何待ちかを答えよ。ただし 4 枚使いの牌は書かないこと。

例

二萬	三萬	四萬	五萬	六萬	七萬	八萬	九萬	東	東	西	西	西
----	----	----	----	----	----	----	----	---	---	---	---	---

1 4

①

二萬	三萬	四萬	五萬	六萬	七萬	八萬	九萬	東	東	西	西	西	七萬	七萬
----	----	----	----	----	----	----	----	---	---	---	---	---	----	----

②

二萬	三萬	四萬	五萬	六萬	七萬	八萬	九萬	東	東	西	西	西	七萬	七萬
----	----	----	----	----	----	----	----	---	---	---	---	---	----	----

③

二萬	三萬	四萬	五萬	六萬	七萬	八萬	九萬	東	東	西	西	西	七萬	七萬
----	----	----	----	----	----	----	----	---	---	---	---	---	----	----

④

二萬	三萬	四萬	五萬	六萬	七萬	八萬	九萬	東	東	西	西	西	七萬	七萬
----	----	----	----	----	----	----	----	---	---	---	---	---	----	----

⑤

二萬	三萬	四萬	五萬	六萬	七萬	八萬	九萬	東	東	西	西	西	七萬	七萬
----	----	----	----	----	----	----	----	---	---	---	---	---	----	----

⑥

二萬	三萬	四萬	五萬	六萬	七萬	八萬	九萬	東	東	西	西	西	七萬	七萬
----	----	----	----	----	----	----	----	---	---	---	---	---	----	----

⑦

三萬	三萬	四萬	四萬	伍萬	六萬	六萬	六萬	七萬	七萬	七萬	八萬	八萬
----	----	----	----	----	----	----	----	----	----	----	----	----

⑧

四萬	四萬	四萬	四萬	伍萬	伍萬	伍萬	伍萬	六萬	六萬	六萬	六萬	七萬
----	----	----	----	----	----	----	----	----	----	----	----	----

⑨

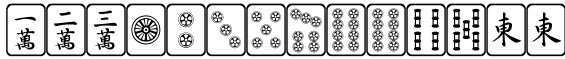
四萬	四萬	伍萬	伍萬	六萬	六萬	七萬	七萬	七萬	八萬	八萬	八萬	九萬
----	----	----	----	----	----	----	----	----	----	----	----	----

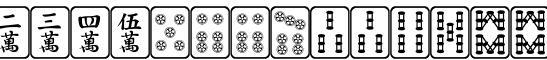
⑩

二萬	二萬	二萬	三萬	四萬	四萬	四萬	伍萬	伍萬	六萬	六萬	七萬	七萬
----	----	----	----	----	----	----	----	----	----	----	----	----

問題 6 (2 点×5)

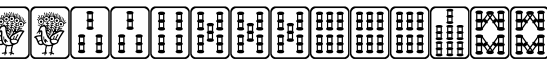
テンパイチャンスをもっと多くする一打を全て答えよ。

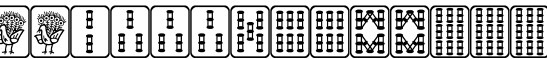
例  _____ ⑤

① 

② 

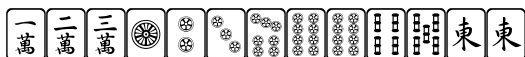
③ 

④ 

⑤ 

問題 7 (2 点×5)

テンパイになる牌は何種何牌か答えよ。

例  _____ 6 種 20 牌

① 

② 

③ 

④ 

⑤ 

