

最高位戦

日本プロ麻雀協会

第43期後期プロ試験（東京・名古屋会場）

制限時間 50 分

※注意事項 問題用紙が全て揃っているか確認してください。




問題用紙の表紙に受験番号と氏名を記入してください。

解答は全て解答欄に記入してください。




解答記入例

一萬	二萬	三萬
----	----	----

 → 一二三

		
---	---	---

 → ①②③

		
--	---	---

 → 1 2 3

東	南	西	北		發	中
---	---	---	---	--	---	---

 → 東南西北白發中

上記の通り記入してください。

問題は全て当協会競技規定に拠るものとします。

誤植等の質問以外は一切認めません。

受験番号	氏名	得点
	解答	

問題1 (1点×15)

次の競技規定に関する文章で、正しいものには○、間違っているものには×を解答欄に記入せよ。 例 麻雀牌は一式140枚を用いる・・・×

- ① 空ポンの罰則は1000点罰符である。
- ② 空ロンは発声だけならチョンボにはならない。
- ③ 半荘終了時に残った供託はトップ者に加算する。
- ④ 人和はない。
- ⑤ 複数者のロンは、二人まで認める。
- ⑥ 四人一風が終わることを半荘という。
- ⑦ 役満は純粋な複合のみ認める。
- ⑧ 打牌の際、牌の呼称をしてはいけない。
- ⑨ 副露メンツが複数ある場合には右から左に並べる。
- ⑩ ツモ番がなくてもリーチはかけられる。
- ⑪ 起家はサイコロを一度振りして決める。
- ⑫ 嶺上開花にツモ符はつく。
- ⑬ 裸単騎でのノーテン宣言はできる。
- ⑭ リーチ後の見逃しは原則禁止である。
- ⑮ チョンボと正当なアガリが同時に起きた場合、アガリもチョンボも成立する。

問題1 解答欄

①	×	②	○	③	×	④	○	⑤	×
⑥	×	⑦	×	⑧	○	⑨	×	⑩	○
⑪	×	⑫	○	⑬	○	⑭	×	⑮	×

問題2 (1点×5) 以下の麻雀用語を漢字にせよ。

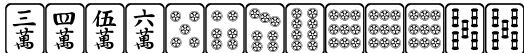
- ① カンチャン ② イーパーコー ③ パオ ④ ピーパイ ⑤ ジュンチャンタイヤオチュウ

問題2 解答欄

①	嵌張	②	一盃口	③	包	④	壁牌	⑤	純全帯么九
---	----	---	-----	---	---	---	----	---	-------

問題7 (2点×4) テンパイになる牌は何種何牌か答えよ。

例  4種 15牌

① 

② 

③ 

④ 

問題7 回答欄

①	16種 51牌	②	12種 38牌	③	5種 17牌	④	13種 39牌
---	---------	---	---------	---	--------	---	---------

問題8 (2点×4)


待ち牌を最も多くする一打を全て答えよ。

例)  ④⑦

① 

② 


③ 

④ 


問題8 回答欄

①	5	②	5	③	7	④	15
---	---	---	---	---	---	---	----



問題9 (1は2点 2は3点)





ABCDの4者が対局を終え、東1局Aさんの親リーチとDの手牌についての考察をしています。牌図 a b を参考にし、4人の会話が成立するよう①②に入る牌姿例を書きなさい。ただし、①②共に、一枚目のを切る直前の14枚の牌姿を書くこと。


A: 起家だったし先手を取りたかったから、打点よりも受け入れ枚数を重視して門前でテンパイしたら即リーチする構えでいたよ。ただ、受け入れ枚数が変わらないから自然に手役も追ったけどね。

B: 確かドラはで、Aさんがドラを最初に切ったよね。

C: そうそう。親とはいえ早い段階でドラを切ってきたから、ある程度まとまっている手牌だと思っていたよ。



D: そして案の定先制リーチがきたね。リーチを受ける直前の私の手牌が牌図 b だったが、が重なったらを切ってリーチすべきかな？

B: Aさんがこの局を受け入れ枚数重視でやっていたのならが当たる可能性は通常より少し上がりそうですね。例えば (①) こんな形からを切れば、2枚目のはより

引っ張られるだろうし。でもが入り目かもしれないし、残った形は三面張。勝負する価値はあるんじゃないかな。


D: 打点には不満が残るけど、親リーチをかわせるかもしれないという意味ではアガリ点以上に価値があるかもね。

では、ツモだったらどうする？私は切りリーチをしようと思っていたよ。

B: なるほど。Aさんが手役にこだわらず受け入れ枚数重視なのであればよりはの方が通りやすいかもね。

C: 枚数を重視したとしても自然に手役を追った手順になる時もあるんじゃない？例えば

(②) こんな14枚からなら、6巡目は打、7巡目のはツモ切りになるよ。

D: これなら確かに受け入れ枚数を落とすことなく打点が追えているね。ということはが当たるのもそんなにレアケースではないのかもね。

牌図 a 東家A捨て牌



※白抜きは手出しの牌、西は3枚切れの牌とする

牌図 b



問題 9 回答欄

①	一 二 三 五 六 ① ② ③ ④ ④ 5 5 7 9 など	②	三 四 五 七 八 九 ③ ④ ⑤ 2 3 5 5 7 7 など
---	--------------------------------	---	----------------------------------

※①は最終形に嵌 8s が残りそうな平和形がベスト。三色の有無は問わない。

②は 345 の 3 色絡み、もしくは 2233455 などの一盃口含み。