

# 最高位戦

## 日本プロ麻雀協会

第42期前期プロ試験（北海道・名古屋会場）

制限時間 50 分

※注意事項 問題用紙が全て揃っているか確認してください。




問題用紙の表紙に受験番号と氏名を記入してください。

解答は全て解答欄に記入してください。




解答記入例 

一	二	三
---	---	---

 → 一二三 

		
---	---	---

 → ①②③ 

		
--	---	---

 → 1 2 3

東	南	西	北		發	中
---	---	---	---	--	---	---

 → 東南西北白發中

上記の通り記入してください。

問題は全て当協会競技規定に拠るものとします。

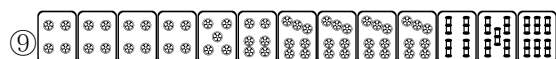
誤植等の質問以外は一切認めません。

受験番号	氏名

問題1 (1点×10)

文章中のカッコ内より当協会の正しい競技規定になるようカッコ内の選択肢より記号を選びなさい。

- ①順位点は (A・10-20 B・4-12 C・5-15 D・10-30)。
- ②牌をよくかき混ぜる行為を (A・磨牌 B・洗牌 C・混牌) という。
- ③親が下家に移動することを、(A・廻荘 B・連荘 C・輪荘 D・転荘) という。
- ④リーチ宣言牌が他家のロン牌であった場合、供託の1000点は (A・払わなくてよい B・払わなければならない)。
- ⑤アガリの形式は (A・4 B・5 C・6 D・7) 種類とする。
- ⑥先ヅモをした者は (A・アガリ放棄 B・チョンボ) となる。
- ⑦チョンボをした者は、(A・満貫分 B・12P C・20P D・40P) トータルポイントから減算される。
- ⑧ツモ番のないリーチは (A・かける事ができる B・かける事ができない)。



この牌姿はテンパイとして (A・認められる B・認められない)。



上記の手牌でリーチをした時、リーチ後に 七萬 の暗カンは (A・できる B・できない)。

問題1 解答欄

①		②		③		④		⑤	
⑥		⑦		⑧		⑨		⑩	

問題2 (1点×4) 以下の麻雀用語を漢字にせよ。

- ①ソウズ ②ファンパイ ③ハネマン ④チャンカン

問題2 解答欄

①		②		③		④	
---	--	---	--	---	--	---	--

問題3 (1点×4) 以下の条件に当てはまる人名を記せ。

- ①第41期最高位 ②第11期Classic ③第41期新人王 ④第16期女流最高位

問題3 解答欄

①		②		③		④	
---	--	---	--	---	--	---	--

問題4 (2点×2) 以下の行為を競技規定に則った手順になるように選択肢の中から記号で選びなさい。


- ① 立直  
② 副露


(A・供託 B・発声 C・摸牌 D・開示 E・打牌 F・洗牌 G・取牌)

問題4 解答欄


①	→	→	②	→	→	→
---	---	---	---	---	---	---

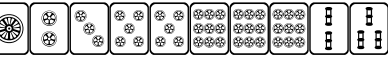
問題5 (2点×10) 次の条件で、アガリが何点か答えよ。全て手牌にドラはなく、リーチはしていないものとする。

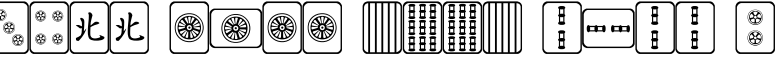
例  ツモ (東場西家) 300・500

①  ツモ (東場西家)

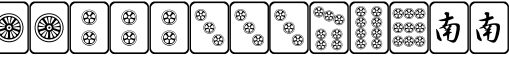
②  西中中中 西ロン (東場西家)

③  ツモ (東場西家)

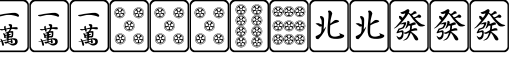
④  西西ロン (東場西家)

⑤  ツモ (東場西家)

⑥  ツモ (東場東家)

⑦  ロン (東場東家)

⑧  ツモ (東場東家)

⑨  ロン (東場東家)

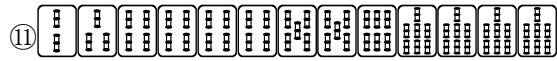
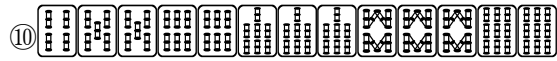
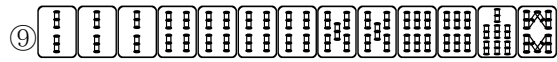
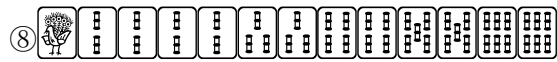
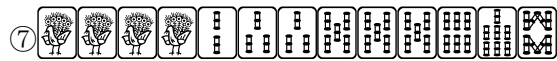
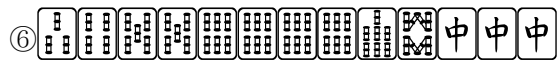
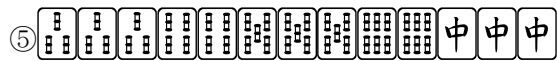
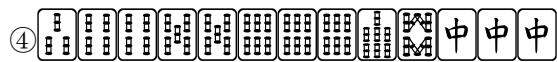
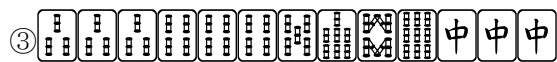


⑩  ロン (東場東家)

問題5 解答欄

①		②		③		④		⑤	
⑥		⑦		⑧		⑨		⑩	

問題6 (2点×11) 次の牌姿が何待ちかを答えよ。ただし4枚使いの牌は書かないこと。

例  \_ 六九



問題6 回答欄

①		②		③		④	
⑤		⑥		⑦		⑧	
⑨		⑩		⑪			

問題7 (2点×4) テンパイチャンスをもっと多くする一打を全て答えよ。

例  六

① 

② 

③ 

④ 

問題7 回答欄


①		②		③		④	
---	--	---	--	---	--	---	--

問題8 (2点×4) テンパイになる牌は何種何牌か答えよ。

例  4種 15牌

① 

② 

③ 

④ 

問題8 回答欄

①		②		③		④	
---	--	---	--	---	--	---	--

問題9 (2点×4)

待ち牌を最も多くする一打を全て答えよ。

例)  ④⑦

① 

② 

③ 

④ 

問題9 回答欄

①		②		③		④	
---	--	---	--	---	--	---	--

問題10 (2点×4)

以下の点数になるような牌姿とアガリ牌の一例を答えよ。ただし東場とし、リーチはしておらず、ドラはないものとする。

- ①散家 ロン 24,000
- ②荘家 ロン 6,800
- ③散家 ツモ 1,500・2,900
- ④散家 ロン 7,100

問題10 回答欄

①	牌姿		アガリ牌	
②	牌姿		アガリ牌	
③	牌姿		アガリ牌	
④	牌姿		アガリ牌	

問題 1 1 (2点×2)

リーグ戦第一節の1半荘目、東1局 本場なし ドラ南

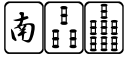
上家が図①のように仕掛けており捨て牌は図②であった。

あなたの手牌が図③の時、[白1]が通りやすい理由を簡潔に2つ述べなさい。

図①上家仕掛け

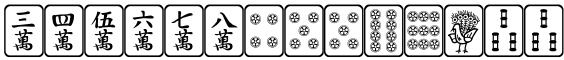


図②上家捨て牌



※[西] ポンで打[南]、[發] ポンで打[2-10000]、[3-10000] チーで打[4-10000] としている。

図③あなたの手牌



問題 1 1 回答欄

①	
②	