

最高位戦

日本プロ麻雀協会

第42期前期プロ試験（東京・大阪会場）

制限時間 50 分

※注意事項 問題用紙が全て揃っているか確認してください。




問題用紙の表紙に受験番号と氏名を記入してください。

解答は全て解答欄に記入してください。




解答記入例

一萬	二萬	三萬
----	----	----

 → 一二三

		
---	---	---

 → ①②③

		
--	---	---

 → 1 2 3

東	南	西	北	發	中
---	---	---	---	---	---

 → 東南西北白發中

上記の通り記入してください。

問題は全て当協会競技規定に拠るものとします。

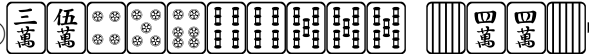
誤植等の質問以外は一切認めません。

受験番号	氏名	点数
		／100


問題1 (1点×10)

文章中のカッコ内より当協会の正しい競技規定になるようカッコ内の選択肢より記号を選びなさい。

- ①四人一風が終わることを、(A・一荘 B・半荘 C・一圈 D・一園)と言う。
- ②順位点は(A・10-30 B・10-20 C・5-15 D・4-12)。
- ③半荘終了時残った供託は、(A・供託のまま B・トップ者が取得 C・リーチ者に戻る)。
- ④ツモ牌(アガリ牌)を手牌に加えてからの和了宣言はアガリとして(A・認められる B・認められない)。
- ⑤槇子ができた時は、(A・盤牌 B・壁牌 C・建牌 D・築牌)の最後尾から1枚を摸して補充する。
- ⑥打牌の誤称により、アガリを宣言した場合、そのアガリが正当なものでなかった時は、(A・アガリを宣言した者の B・誤称した者の C・どちらも)チョンボとなる。
- ⑦責任払いは(A・役満のパオにのみ適用される B・役満のパオと大ミンカンに適用される C・ない)。
- ⑧九種九牌の流局は(A・あり。親は流れる B・あり。親は流れない C・ない)。

⑨ 

この牌姿はテンパイとして(A・認められる B・認められない)。

⑩ 

上記の手牌でリーチをした時、リーチ後にの暗カンは(A・できる B・できない)。

問題1 解答欄

①		②		③		④		⑤	
⑥		⑦		⑧		⑨		⑩	

問題2 (1点×5) 以下の麻雀用語を漢字にせよ。

- ①メンゼン ②ジュンメ ③カンチャンターツ ④チンロウトウ ⑤ノーテンバツ

問題2 解答欄

①		②		③		④		⑤	
---	--	---	--	---	--	---	--	---	--

問題3 (1点×4) 以下の条件に当てはまる人名を記せ。

- ①第41期最高位 ②第11期Classic ③第24期發王位 ④第16期女流最高位

問題3 解答欄

①		②		③		④	
---	--	---	--	---	--	---	--

問題4 (2点×2) 以下の行為を競技規定に則った手順になるように選択肢の中から4つ記号で選びなさい。

①リーチ

②フーロ

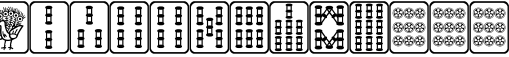





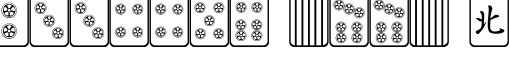
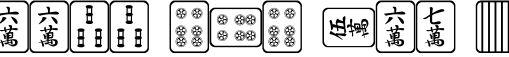


(A・取牌 B・洗牌 C・打牌 D・開示 E・供託 F・発声 G・摸牌)

問題4 解答欄

①	→	→	②	→	→	→
---	---	---	---	---	---	---

問題5 (2点×10) 次の条件で、アガリが何点か答えよ。全て手牌にドラはなく、リーチはしていないものとする。

例  ツモ (東場西家) 300・500


- ①  ツモ (東場西家)
- ②  ロン (東場西家)
- ③  ツモ (東場西家)
- ④  ツモ (東場西家)
- ⑤  ツモ (東場西家)
- ⑥  ツモ (東場東家)
- ⑦  ロン (東場東家)
- ⑧  ツモ (東場東家)
- ⑨  ツモ (東場東家)
- ⑩  ロン (東場東家)


問題5 解答欄

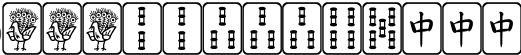
①		②		③		④		⑤	
⑥		⑦		⑧		⑨		⑩	

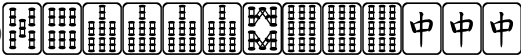
問題6 (2点×10) 次の牌姿が何待ちかを答えよ。ただし4枚使いの牌は書かないこと。

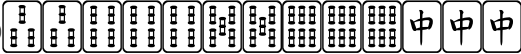
例  _ 六 九

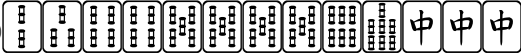
① 


② 


③ 


④ 


⑤ 

⑥ 

⑦ 

⑧ 

⑨ 

⑩ 

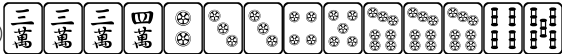
問題6 解答欄

①		②		③		④		⑤	
⑥		⑦		⑧		⑨		⑩	

問題7 (2点×4) テンパイチャンスをもっと多くする一打を全て答えよ。

例  六

① 

② 

③ 


④ 

問題7 解答欄


①		②		③		④	
---	--	---	--	---	--	---	--

問題8 (2点×4) テンパイになる牌は何種何牌か答えよ。

例  4種 15牌

① 

② 

③ 

④ 

問題8 解答欄

①		②		③		④	
---	--	---	--	---	--	---	--

問題9 (2点×3)

待ち牌を最も多くする一打を全て答えよ。

例)  ④⑦

① 

② 

③ 

問題9 解答欄

①		②		③	
---	--	---	--	---	--

問題10 (2点×4)

現在南四局二本場、供託なし で各持ち点が以下の通りである。

東家 34900 南家 33800 西家 28900 北家 22400

各問の条件を満たす最低点数を 50 符以下の点数で答えよ。

但し本局及び次局にリーチ棒は出ないものとする。 解答は二本場分を入れずに記すこと。

①西家が東家からのロンアガリで二位になる条件

②北家がツモアガリで三位になる条件

③西家がツモアガリで一位になる条件

④北家がツモアガリで一位になる条件

問題10 解答欄

①		②		③		④	
---	--	---	--	---	--	---	--

問題 1 1 (7点 ①② 2点 ③ 3点)


2半荘の合計ポイント上位2名が勝ち抜けというトーナメントをおこなっている。

1半荘目の結果は A +42.6 B +15.2 C △11.3 D △46.5 であった。(順位点込)

2半荘目のオーラスでそれぞれの持ち点は A22800 B33100 C30400 D33700 であるとき次の設問に答えよ。

① このままの点数で終わった場合、勝ち抜けする二人を記号で答えよ。


② Aが勝ち抜けするためにBへ放銃できる最大点数を50符以下の点数で答えよ。

③ 以下の図はそのオーラスのそれぞれの捨て牌である。ドラは  親はD

この局が時間打ち切りの最終局であった時、Cがテンパイしていると仮定するとどんな牌姿が予想されるか。その一例を記しなさい。ただし、現状のまま条件を満たす可能性がある牌姿に限るものとする。※副露部分は書かなくて良い。

D 東家 捨て牌 

C 南家 捨て牌 

B 西家 捨て牌 

A 北家 捨て牌 

Cは  をポンして打 、 をチーして打  としている。

問題 1 1 解答欄

①		②		③	
---	--	---	--	---	--