

最高位戦

日本プロ麻雀協会

第42期後期プロ試験（新潟会場）

制限時間 50 分

※注意事項 問題用紙が全て揃っているか確認してください。




問題用紙の表紙に受験番号と氏名を記入してください。

解答は全て解答欄に記入してください。




解答記入例

| | | |
|----|----|----|
| 一萬 | 二萬 | 三萬 |
|----|----|----|

 → 一二三

| | | |
|---|---|---|
|  |  |  |
|---|---|---|

 → ①②③

| | | |
|--|---|---|
|  |  |  |
|--|---|---|

 → 1 2 3

| | | | | | | |
|---|---|---|---|--|---|---|
| 東 | 南 | 西 | 北 | | 發 | 中 |
|---|---|---|---|--|---|---|

 → 東南西北白發中

上記の通り記入してください。

問題は全て当協会競技規定に拠るものとします。

誤植等の質問以外は一切認めません。

| 受験番号 | 氏名 | 点数 |
|------|----|----|
| | | |

問題1 (1点×15)

次の競技規定に関する文章で、正しいものには○、間違っているものには×を解答用紙に記入せよ。 例 麻雀牌は一式140枚を用いる・・・×

- ① 空行為をしてしまった時の罰則は1000点供託である。
- ② 嶺上自摸でのツモ符は全てのカンにつく。
- ③ ツモ番がなくてはリーチができない。
- ④ 裸単騎は必ずテンパイ扱いとなる。
- ⑤ ダブルロンはあるが、トリプルロンはない。
- ⑥ 晒し間違いをしても打牌前なら訂正できる。
- ⑦ アガリ放棄となった者はその局に限り、チー、ポン、カンの権利を失う。
- ⑧ チョンボのペナルティはトータルポイントからマイナス40ポイントである。
- ⑨ ポンすべきところをチーと言ってしまった場合、立会人より『注意』を受けた上で訂正が認められる。
- ⑩ 開門のサイコロは二度振りである。
- ⑪ 連風牌の対子の部分符は4符である。
- ⑫ 緑一色は $\boxed{\text{發}}$ が入ってなくてもよい。
- ⑬ チョンボと正当なアガリが同時に起きた場合、アガリもチョンボも成立する。
- ⑭ 門前限定の役満は5種類である。
- ⑮ リーチ者は流局時に手牌を公開しなければならない。

問題1 解答欄

| | | | | | | | | | |
|---|--|---|--|---|--|---|--|---|--|
| ① | | ② | | ③ | | ④ | | ⑤ | |
| ⑥ | | ⑦ | | ⑧ | | ⑨ | | ⑩ | |
| ⑪ | | ⑫ | | ⑬ | | ⑭ | | ⑮ | |

問題2 (1点×6) 以下の麻雀用語を漢字にせよ。

- ① チー ②イーシャンテン ③ ホウジュウ
- ④ ペンチャン ⑤センチャンパイ ⑥ホウテイラオユイ

問題2 解答欄


| | | | | | | | | | | | |
|---|--|---|--|---|--|---|--|---|--|---|--|
| ① | | ② | | ③ | | ④ | | ⑤ | | ⑥ | |
|---|--|---|--|---|--|---|--|---|--|---|--|

問題8 (2点×4)

待ち牌を最も多くする一打を全て答えよ。

例)  ④⑦

① 

② 


③ 

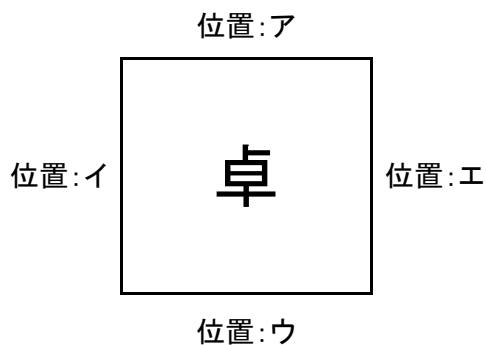
④ 

問題8 回答欄

| | | | | | | | |
|---|--|---|--|---|--|---|--|
| ① | | ② | | ③ | | ④ | |
|---|--|---|--|---|--|---|--|

問題9 (完答4点)

図のア、イ、ウ、エの位置にA、B、C、Dが座り、Aが最初のサイコロを振り、場所決めを開始した。サイコロは順に3、6と出て、用意された牌はCから見て東南北西と並んでいた。それぞれの場所に座ったのは誰か、A、B、C、Dで答えよ。




問題9 回答欄

| | | | | | | | |
|---|--|---|--|---|--|---|--|
| ア | | イ | | ウ | | エ | |
|---|--|---|--|---|--|---|--|

問題10 (3点)







ABCDが対局をしています。

オーラスでそれぞれの持ち点は東家A49500 南家B47800 西家C20100 北家D2600

ドラは  で、Bの仕掛けと捨て牌が以下であった。

捨て牌         

仕掛け         

なお、捨て牌は全て手出しとし、 ポンで打   ポンで打   チーで打  とし
ている。

Bの残った手牌4枚を予想しなさい。

問題10回答欄