

# 最高位戦

## 日本プロ麻雀協会

第42期後期プロ試験（新潟会場）

制限時間 50 分

※注意事項 問題用紙が全て揃っているか確認してください。

問題用紙の表紙に受験番号と氏名を記入してください。

解答は全て解答欄に記入してください。

解答記入例 

一萬	二萬	三萬
----	----	----

 → 一二三 

●	●●	●●●
---	----	-----

 → ①②③ 

●●●	●●●	●●●
-----	-----	-----

 → 1 2 3

東	南	西	北		發	中
---	---	---	---	--	---	---

 → 東南西北白發中

上記の通り記入してください。

問題は全て当協会競技規定に拠るものとします。

誤植等の質問以外は一切認めません。

受験番号	氏名	点数
	<b>解答</b>	

問題1 (1点×15)

次の競技規定に関する文章で、正しいものには○、間違っているものには×を解答用紙に記入せよ。 例 麻雀牌は一式140枚を用いる・・・×

- ① 空行為をしてしまった時の罰則は1000点供託である。
- ② 嶺上自摸でのツモ符は全てのカンにつく。
- ③ ツモ番がなくてはリーチができない。
- ④ 裸単騎は必ずテンパイ扱いとなる。
- ⑤ ダブルロンはあるが、トリプルロンはない。
- ⑥ 晒し間違いをしても打牌前なら訂正できる。
- ⑦ アガリ放棄となった者はその局に限り、チー、ポン、カンの権利を失う。
- ⑧ チョンボのペナルティはトータルポイントからマイナス40ポイントである。
- ⑨ ポンすべきところをチーと言ってしまった場合、立会人より『注意』を受けた上で訂正が認められる。
- ⑩ 開門のサイコロは二度振りである。
- ⑪ 連風牌の対子の部分符は4符である。
- ⑫ 緑一色は<sup>𪛗</sup>が入ってなくてもよい。
- ⑬ チョンボと正当なアガリが同時に起きた場合、アガリもチョンボも成立する。
- ⑭ 門前限定の役満は5種類である。
- ⑮ リーチ者は流局時に手牌を公開しなければならない。

問題1 解答欄

①	×	②	○	③	×	④	×	⑤	×
⑥	○	⑦	○	⑧	○	⑨	×	⑩	×
⑪	×	⑫	○	⑬	×	⑭	○	⑮	○

問題2 (1点×6) 以下の麻雀用語を漢字にせよ。

- ① チー ②イーシャンテン ③ ホウジュウ
- ④ ペンチャン ⑤センチャンパイ ⑥ホウテイラオユイ

問題2 解答欄

①	吃	②	一向聴	③	放銃	④	辺張	⑤	尖張牌	⑥	河底撈魚
---	---	---	-----	---	----	---	----	---	-----	---	------

問題3 (2点×12) 次の条件で、アガリが何点か答えよ。全て手牌にドラはなく、リーチはしていないものとする。

例 ツモ (東場西家) 300・500

- ① ロン (東場西家)
- ② ツモ (東場西家)
- ③ ロン (東場西家)
- ④ ツモ (東場西家)
- ⑤ ロン (東場西家)
- ⑥ ツモ (東場西家)
- ⑦ ツモ (東場東家)
- ⑧ ツモ (東場東家)
- ⑨ ロン (東場東家)
- ⑩ ロン (東場東家)
- ⑪ ツモ (東場東家)
- ⑫ ロン (東場東家)

問題3 解答欄

①	5200	②	2000・4000	③	2300	④	700・1300
⑤	6400	⑥	800・1500	⑦	1600 オール	⑧	3200 オール
⑨	7700	⑩	12000	⑪	2300 オール	⑫	800 オール

問題4（1点×4）以下の条件に当てはまる人名を記せ。

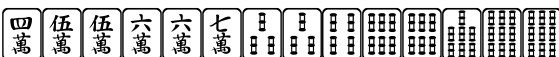
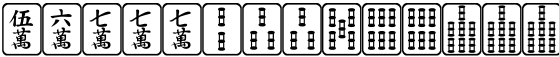


- ① 当会代表
- ② 第41期最高位
- ③ 第16期女流最高位
- ④ 第11期飯田正人杯最高位戦classic

問題4 解答欄

①	<b>新津潔</b>	②	<b>近藤誠一</b>	③	<b>大平亜季</b>	④	<b>飯沼雅由</b>
---	------------	---	-------------	---	-------------	---	-------------

問題5（2点×4）テンパイチャンスをもっと多くする一打を全て答えよ。

例  六





- ① 
- ② 
- ③ 
- ④ 

問題5 回答欄

①	<b>4 7</b>	②	<b>3</b>	③	<b>五</b>	④	<b>1 5</b>
---	------------	---	----------	---	----------	---	------------

問題6（2点×4）テンパイになる牌は何種何牌か答えよ。

例  4種 15牌

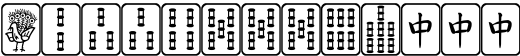









- ① 
- ② 
- ③ 
- ④ 

問題6 回答欄

①	<b>8種27牌</b>	②	<b>9種24牌</b>	③	<b>11種31牌</b>	⑤	<b>6種15牌</b>
---	--------------	---	--------------	---	---------------	---	--------------

問題 7 (2 点 × 1 0) 次の牌姿が何待ちかを答えよ。ただし 4 枚使いの牌は書かないこと。

例  六 九

- ① 
- ② 
- ③ 
- ④ 
- ⑤ 
- ⑥ 
- ⑦ 
- ⑧ 
- ⑨ 
- ⑩ 

問題 7 回答欄


①	256	②	5689	③	458	④	147 中	⑤	234
⑥	479	⑦	1234	⑧	12347	⑨	45679	⑩	234568

問題 8 (2点×4)

待ち牌を最も多くする一打を全て答えよ。

例)  ④⑦

① 

② 

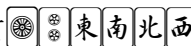
③ 

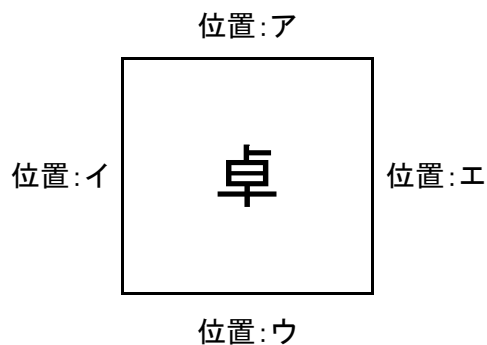
④ 

問題 8 回答欄

①	六	②	7	③	二五	④	5
---	---	---	---	---	----	---	---

問題 9 (完答 4点)

図のア、イ、ウ、エの位置にA、B、C、Dが座り、Aが最初のサイコロを振り、場所決めを開始した。サイコロは順に3、6と出て、用意された牌はCから見てと並んでいた。それぞれの場所に座ったのは誰か、A、B、C、Dで答えよ。




問題 9 回答欄











ア	D	イ	B	ウ	C	エ	A
---	---	---	---	---	---	---	---

問題10 (3点)







ABCDが対局をしています。

オーラスでそれぞれの持ち点は東家A49500 南家B47800 西家C20100 北家D2600

ドラは  で、Bの仕掛けと捨て牌が以下であった。

捨て牌          

仕掛け        

なお、捨て牌は全て手出しとし、 ポンで打   ポンで打   チーで打  とし  
ている。

Bの残った手牌4枚を予想しなさい。

問題10回答欄

**模範解答 六六⑤⑦**

**六六③④ 2点**