

# 最高位戦

## 日本プロ麻雀協会

第42期後期プロ試験（東京・北海道・東海会場）

制限時間 50 分

※注意事項 問題用紙が全て揃っているか確認してください。

問題用紙の表紙に受験番号と氏名を記入してください。

解答は全て解答欄に記入してください。

解答記入例 

一	二	三
---	---	---

 → 一二三 

--	--	--

 → ①②③ 

--	--	--

 → 1 2 3

東	南	西	北		發	中
---	---	---	---	--	---	---

 → 東南西北白發中

上記の通り記入してください。

問題は全て当協会競技規定に拠るものとします。

誤植等の質問以外は一切認めません。

受験番号	氏名	点数
	<b>解答</b>	

問題1 (1点×15)

次の競技規定に関する文章で、正しいものには○、間違っているものには×を解答用紙に記入せよ。例 麻雀牌は一式140枚を用いる・・・×

- ① 順位点は10-30である。
- ② 王牌直前の牌を河底牌という。河底牌を摸した者は槓子をつくることができない。
- ③ 錯行為をした者はチョンボとなる。
- ④ 開門後の壁牌末尾より数えて14枚を残し、これを王牌という。
- ⑤ ドラ表示牌を表に向ける行為は、投サイした者が行う。
- ⑥ 槓が4回あった場合には流局となる。ただし、1人が四槓子を作った場合は除く。
- ⑦ 競技行為を対局者に告知する為の発声は全部で6つある。
- ⑧ 積まれた牌を井桁に組む行為を積牌という。
- ⑨ 4人一風を終わるのを一圈とし、四圈終わるのを以って半荘とする。
- ⑩ 親は、ドラが明示され嶺上牌が下ろされていることを確認したら第一打を行って良い。
- ⑪ 摸打の一巡とは、自己の打牌から次回の自己の取牌直前迄とする。
- ⑫ 一旦ツモ行為を開始した者は、原則その行為を中断、中止することはできない。
- ⑬ 平局とは、和了者の出なかった局の事をいう。
- ⑭ チョンボをした者には20pのペナルティが課せられる。
- ⑮ 当規定で認めている役満は全部で12種類である。

問題1 解答欄

①	○	②	×	③	×	④	○	⑤	×
⑥	×	⑦	○	⑧	×	⑨	×	⑩	×
⑪	○	⑫	○	⑬	×	⑭	×	⑮	○

問題2 (1点×6) 以下の麻雀用語を漢字にせよ。

- ① チャンカン ②メンゼン ③チャンチャ
- ④ カンチャン ⑤フーロ ⑥ハダカタンキ

問題2 解答欄

①	搶槓	②	門前	③	庄家	④	嵌張	⑤	副露	⑥	裸単騎
---	----	---	----	---	----	---	----	---	----	---	-----

問題3 (2点×12) 次の条件で、アガリが何点か答えよ。全て手牌にドラはなく、リーチはしていないものとする。

例 ツモ (東場西家) 300・500

- ① ロン (東場西家)
- ② ツモ (東場西家)
- ③ ツモ (東場西家)
- ④ ロン (東場西家)
- ⑤ ツモ (東場西家)
- ⑥ ツモ (東場西家)
- ⑦ ツモ (東場東家)
- ⑧ ロン (東場東家)
- ⑨ ロン (東場東家)
- ⑩ ロン (東場東家)
- ⑪ ツモ (東場東家)
- ⑫ ツモ (東場東家)

問題3 解答欄

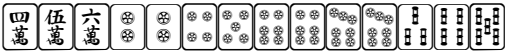
①	5200	②	800・1600	③	1000・2000	④	24000
⑤	1000・2000	⑥	1800・3600	⑦	2600 オール	⑧	9600
⑨	2900	⑩	6800	⑪	12000 オール	⑫	1300 オール



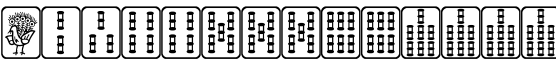


問題8 (2点×4)

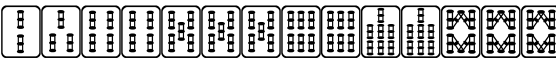
待ち牌を最も多くする一打を全て答えよ。

例)  ④⑦

① 

② 



③ 

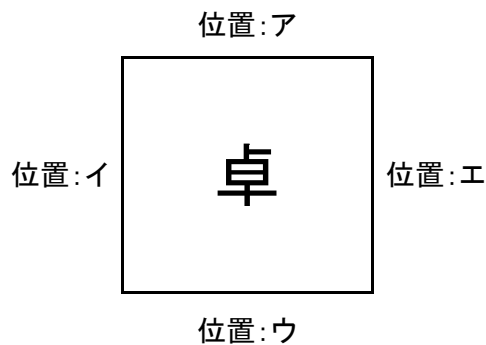
④ 

問題8 回答欄

①	三	②	1	③	—	④	5
---	---	---	---	---	---	---	---

問題9 (完答4点)


図のア、イ、ウ、エの位置にA、B、C、Dが座り、Aが最初のサイコロを振り、場所決めを開始した。サイコロは順に5、12と出て、用意された牌はCから見て南西  北東  と並んでいた。それぞれの場所に座ったのは誰か、A、B、C、Dで答えよ。










問題9 回答欄








ア	D	イ	C	ウ	B	エ	A
---	---	---	---	---	---	---	---

問題10 (3点)

東一局配給原点、ドラは 

西家が  を7巡目にポンをして打、 


次巡、  を    でチーをして打、  とした。

捨て牌：          

この時、あなたの手牌は以下であった。

西家がテンパイだとしても、この瞬間  が比較的安全だと判断できる理由について述べよ。

問題10回答欄

・3sが自分から四枚見えているのでリャンメン待ちに当たらない。  
 ・シャンポンで当たるとしたら112337發發????から發をポンして3sを切っていることになり、かなり不自然な仕掛けということになる。  
 ・単騎で当たるとしたら1237789などの待ちかえだけなのでほとんどないケース