

最高位戦

日本プロ麻雀協会

第41期前期プロ試験（関東） 制限時間 50分

----- 回答記入例 -----

一萬	二萬	三萬						
----	----	----	--	--	--	--	--	--

 => 一二三 ④⑤⑥ 7 8 9

東	南	西	北	發	中
---	---	---	---	---	---

 => 東南西北白發中

※

發

 に関しては「R」「發」の表記でも可

点数を表記する場合 => 5200、2600オール、1300 / 2600

- A) 上記の通りに記入して下さい
- B) 問題は全て当協会の競技規定に拠るものとします
- C) 誤植等の質問以外は一切認めません
- D) この問題が配られたら受験番号・氏名を記入してお待ち下さい

受験番号	氏名（フリガナ）	点数
		/100

問題 1 (1 点×10)

文章中のカッコ内より当協会の正しい競技規定になるようにカッコ内の選択肢より記号を選びなさい。

例：麻雀牌は一式、(A. 132 枚 B. 136 枚 C. 140 枚) を用いる B

- ① ポンとチーの優先順位は、(A. 発声優先 B. ポン優先)。
- ② ダブル役満・トリプル役満は (A. 純粋な複合のみ認められる B. ない)。
- ③ 親が下家に移動することを、(A. 回荘 B. 移荘 C. 廻荘 D. 輪荘) という。
- ④ 嶺上自摸でのツモ符は、(A. 全てのカンにつく B. 大明槓ではつかない C. つかない)。
- ⑤ セットボタンは、(A. 次の荘家が押す B. 次の荘家が押すが和了があれば和了者が押す)。
- ⑥ 晒し間違いは、(A. 晒した時点でアガリ放棄 B. 打牌前なら訂正できる)。
- ⑦ 局と局の間に牌をかき混ぜる行為を、(A. 混牌 B. 椎牌 C. 洗牌 D. 弑牌) という。
- ⑧ 四人一風が終わることを、(A. 半荘 B. 一源 C. 一界 D. 一圈) という。
- ⑨ チョンボ時に正当なアガリがあれば、(A. チョンボ優先 B. アガリ優先 C. 両方認められる)。
- ⑩ テンパイ宣言は、(A. 親から B. トップ者から C. リーチ者から D. 全員同時に) 行う。

解答欄

①	②	③	④	⑤
⑥	⑦	⑧	⑨	⑩

問題 3 (1 点×6)

以下の麻雀用語を漢字にせよ。

- ① ファンパイ ② ツモ ③ カンチャン
④ ペンチャン ⑤ チー ⑥ チャンタイヤオチュウ

解答欄

①	②	③
④	⑤	⑥

問題 4 (1 点×6)

以下の麻雀用語の読みをカタカナで答えよ。

- ① 河底撈魚 ② 開門 ③ 散家
④ 槍槓 ⑤ 副底 ⑥ 尖張牌

解答欄

①	②	③
④	⑤	⑥

問題 5 (1 点×4)

当協会主催のタイトル戦の次のタイトルホルダーの名前をフルネームで答えよ。

- ① 第 40 期最高位 ② 第 15 期女流最高位 ③ 第 23 期發王位 ④ 第 10 期 Classic

解答欄

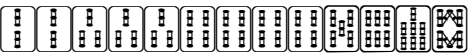
①	②	③	④
---	---	---	---

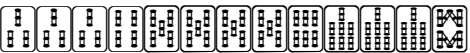
問題 6 (2点×4)

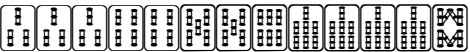
次の牌姿が何待ちかを答えよ。ただし4枚使いの牌は書かないこと。


例： 

三六九

① 

② 

③ 

④ 

解答欄

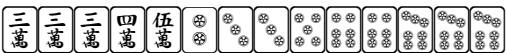
①	②	③	④
---	---	---	---

問題 7 (2点×4)


テンパイチャンスをもっと多くする一打を全て答えよ。

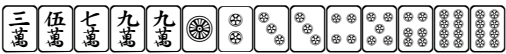
例： 

六

① 

② 

③ 

④ 

解答欄

①	②	③	④
---	---	---	---

問題 8 (2点×4)

テンパイになる牌は何種何牌かを答えよ。

例：

4種 15牌

①

②

③

④

解答欄

①	②	③	④
---	---	---	---

問題 9 (2点×4)

待ち牌を最も多くする一打を全て答えよ。

例：

4 7

①

②

③

④

解答欄

①	②	③	④
---	---	---	---

問題 10 (完答 4 点)

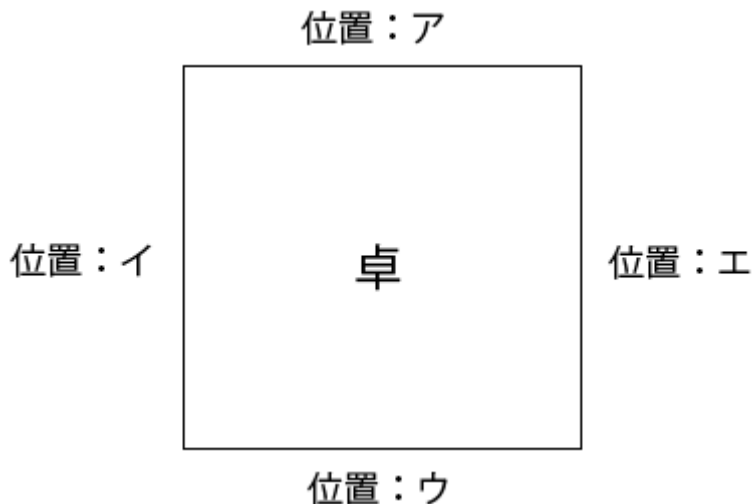
図のア、イ、ウ、エの位置に順に A、B、C、D が座り、A が最初のサイコロを振り、場所決めを開始した。

サイコロは順に 8 , 4 と出て、用意された牌は位置ウの C から見て

西	北	南	東
---	---	---	---

 と並んだ。

最終的にそれぞれの場所に座ったのは誰か、A、B、C、D で答えよ。



解答欄

ア	イ	ウ	エ
---	---	---	---

問題 11 (2 点×4)

状況：オーラス 2 本場 供託 1000 点 東家 34900 点 南家 31700 点 西家 24100 点 北家 28300 点

自分が西家である時、以下の条件を満たす最も低いアガリ点を答えよ。

解答欄には積み棒を含まない点数を書くこと。

- | | |
|----------------|-----------------|
| ① ツモアガリで単独 1 着 | ② ツモアガリで単独 2 着 |
| ③ ツモアガリで単独 3 着 | ④ 南家からロンで単独 2 着 |

解答欄

①	②
③	④

問題 12 (3 点)

東場南家で現在、鳴きを入れてテンパイしている。待ちは2種類のみでドラはない。

A ツモ 1600/3200 | B ツモ 4000/8000

このような牌姿の一例をあげよ。

解答欄

問題 13 (3 点)

東家：

南家：

西家：

北家： (手出しの立直)

この北家の立直に対して以下の二人が話している。

A 「手出しで 捨てた後に離れて 切り立直だから が待ちに関連している可能性が高いよね」

B 「いやいや、そうとも限らないよ。だって○○○○○○○○○○だからね。」

Bさんの伝えたかったことを完結に述べよ。

解答欄