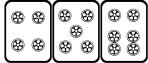



最高位戦

日本プロ麻雀協会

第41期後期プロ試験（関西） 制限時間 50分

----- 回答記入例 -----

| | | | | | | | | |
|----|----|----|---|---|----|-----|-----|-----|
| 一萬 | 二萬 | 三萬 |  |  | => | 一二三 | ④⑤⑥ | 789 |
|----|----|----|---|---|----|-----|-----|-----|

| | | | | | | | |
|---|---|---|---|---|---|----|---------|
| 東 | 南 | 西 | 北 | 發 | 中 | => | 東南西北白發中 |
|---|---|---|---|---|---|----|---------|

※

| |
|---|
| 發 |
|---|

 に関しては「R」「發」の表記でも可

点数を表記する場合 => 5200、2600オール、1300/2600

- A) 上記の通りに記入して下さい
- B) 問題は全て当協会の競技規定に拠るものとします
- C) 誤植等の質問以外は一切認めません
- D) この問題が配られたら受験番号・氏名を記入してお待ち下さい

| 受験番号 | 氏名（フリガナ） | 点数 |
|------|----------|------|
| | | /100 |

問題 1 (1 点×10)

文章中のカッコ内より当協会の正しい競技規定になるようにカッコ内の選択肢より記号を選びなさい。

例：麻雀牌は一式、(A. 132 枚 B. 136 枚 C. 140 枚) を用いる B

- ① 嶺上開花と海底摸月は、(A. 複合する B. 複合しない C. メンゼン時のみ複合する)。
- ② セットボタンは、(A. 次の荘家が押す B. 次の荘家が押すが和了があれば和了者が押す)。
- ③ 起家は、(A. 一度振り B. 二度振り C. 場決めの際の風牌) で決める。
- ④ 晒し間違いは、(A. 晒した時点でアガリ放棄 B. 打牌前なら訂正できる)。
- ⑤ 先ヅモをした者は (A. 嚴重注意 B. アガリ放棄)。
- ⑥ ポンとチーの優先順位は、(A. 発声優先 B. ポン優先)。
- ⑦ 半荘終了時に同点だった場合は、(A. 上家優先 B. 順位点をわける)。
- ⑧ 半荘終了時残った供託は、(A. リーチ者に戻る B. トップ者に加算 C. 供託のまま)。
- ⑨ リーチ後の見逃しは、(A. できる B. できない)。
- ⑩ 裸単騎でのノーテン宣言は、(A. できる B. できない)。

解答欄

| | | | | |
|---|---|---|---|---|
| ① | ② | ③ | ④ | ⑤ |
| ⑥ | ⑦ | ⑧ | ⑨ | ⑩ |

問題 3 (1 点×6)

以下の麻雀用語を漢字にせよ。

- ① リンチャン ② ファンパイ ③ ホウジュウ
④ ジュンチャンタイヤオチュウ ⑤ チー ⑥ ポン

解答欄

| | | |
|---|---|---|
| ① | ② | ③ |
| ④ | ⑤ | ⑥ |

問題 4 (1 点×6)

以下の麻雀用語の読みをカタカナで答えよ。

- ① 散家 ② 栄和 ③ 開門
④ 老頭牌 ⑤ 壁牌 ⑥ 刻子

解答欄

| | | |
|---|---|---|
| ① | ② | ③ |
| ④ | ⑤ | ⑥ |

問題 5 (1 点×4)

当協会主催のタイトル戦の次のタイトルホルダーの名前をフルネームで答えよ。

- ① 第 40 期最高位 ② 第 15 期女流最高位 ③ 第 25 期發王位 ④ 第 10 期 Classic

解答欄

| | | | |
|---|---|---|---|
| ① | ② | ③ | ④ |
|---|---|---|---|

問題 6 (2点×4)

次の牌姿が何待ちかを答えよ。ただし4枚使いの牌は書かないこと。

例：

三六九

①

②

③

④

解答欄

| | | | |
|---|---|---|---|
| ① | ② | ③ | ④ |
|---|---|---|---|

問題 7 (2点×4)

テンパイチャンスをもっと多くする一打を全て答えよ。

例：

六

①

②

③

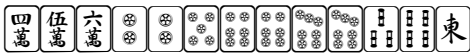
④

解答欄

| | | | |
|---|---|---|---|
| ① | ② | ③ | ④ |
|---|---|---|---|


問題 8 (2点×4)

テンパイになる牌は何種何牌かを答えよ。

例： 

4種 15牌

① 

② 

③ 

④ 

解答欄

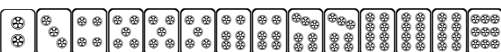
| | | | |
|---|---|---|---|
| ① | ② | ③ | ④ |
|---|---|---|---|

問題 9 (2点×4)


待ち牌を最も多くする一打を全て答えよ。


例： 

4 7

① 

② 

③ 

④ 



解答欄

| | | | |
|---|---|---|---|
| ① | ② | ③ | ④ |
|---|---|---|---|

問題 10 (完答 4 点)

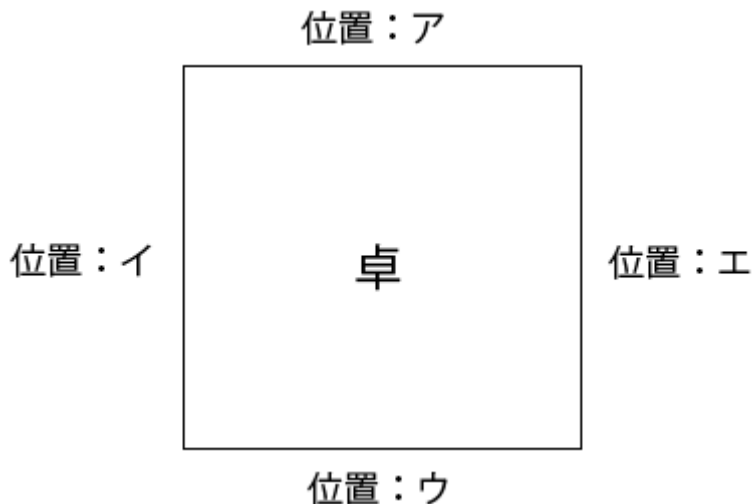
図のア、イ、ウ、エの位置に順に A、B、C、D が座り、A が最初のサイコロを振り、場所決めを開始した。

サイコロは順に 7, 3 と出て、用意された牌は位置ウの C から見て

| | | | | | |
|---|---|---|---|---|---|
| 西 | 北 | 南 |  | 東 |  |
|---|---|---|---|---|---|

 と並んだ。

最終的にそれぞれの場所に座ったのは誰か、A、B、C、D で答えよ。



解答欄

| | | | |
|---|---|---|---|
| ア | イ | ウ | エ |
|---|---|---|---|

問題 11 (2 点×4)

状況：オーラス 3 本場 供託 1000 点 東家 35900 点 南家 30700 点 西家 24100 点 北家 28300 点

自分が西家である時、以下の条件を満たす最も低いアガリ点を答えよ。

解答欄には積み棒を含まない点数を書くこと。

- | | |
|----------------|-----------------|
| ① ツモアガリで単独 1 着 | ② ツモアガリで単独 2 着 |
| ③ ツモアガリで単独 3 着 | ④ 南家からロンで単独 2 着 |

解答欄

| | |
|---|---|
| ① | ② |
| ③ | ④ |

問題 12 (1 点×4)

以下の設問に答えよ。

- ① 日本の現在の内閣総理大臣（第 97 代）を漢字・フルネームで答えよ。
- ② 政治資金の私的流用などの疑惑で 2016 年 6 月 21 日東京都知事を辞職した知事名を答えよ。
- ③ イチローが日米通算 4257 安打で〇〇〇の持つメジャー通算記録を超えた。〇〇〇を埋める人物名を答えよ。
- ④ 2016 年 6 月にイギリスが離脱するかを国民投票で問う連合名を答えよ

解答欄

| | |
|---|---|
| ① | ② |
| ③ | ④ |

問題 13 (2 点)

待ちが 2 種類あり、いずれもカンチャン待ちである牌姿の一例をあげよ。

解答欄

| |
|--|
| |
|--|