

# 最高位戦

## 日本プロ麻雀協会

第40期後期プロ試験（関東） 制限時間 50分

### ----- 回答記入例 -----

一萬	二萬	三萬						
----	----	----	--	--	--	--	--	--

 => 一二三 ④⑤⑥ 7 8 9

東	南	西	北	發	中
---	---	---	---	---	---

 => 東南西北白發中

※ 

發
---

 に関しては「R」「發」の表記でも可

点数を表記する場合 => 5200、2600オール、1300 / 2600

- A) 上記の通りに記入して下さい
- B) 問題は全て当協会の競技規定に拠るものとします
- C) 誤植等の質問以外は一切認めません
- D) この問題が配られたら受験番号・氏名を記入してお待ち下さい

受験番号	氏名（フリガナ）	点数
		/100

## 問題 1 (1 点×10)

文章中のカッコ内より当協会の正しい競技規定になるようにカッコ内の選択肢より記号を選びなさい。

例：麻雀牌は一式、( A. 132 枚 B. 136 枚 C. 140 枚 ) を用いる  B


- ① 複数者のロンは、( A. 全て認める B. 二人まで認める C. 全て頭ハネ )。
- ② パオは、( A. 特定の役満に適用 B. 特定の役満と大明槓に適用 C. ない )。
- ③ ダブル立直と人和は、( A. 両方ある B. ダブル立直のみある C. 人和のみある D. 両方ない )。
- ④ 開門のサイコロは、( A. 一度振り B. 東場は一度振り・南場は二度振り C. 二度振り )。
- ⑤ 副露メンツが複数ある場合は、( A. 右から左に B. 手前から奥に C. 奥から手前に ) 並べる。
- ⑥ 槓ドラは、( A. 必ず即開示 B. 暗槓は即開示・明槓と加槓は打牌後開示 C. 全て打牌後開示 )。
- ⑦ ドラ表示牌の開け間違いは、( A. 親の第一打までは訂正できる B. 現状維持 )。
- ⑧ 局と局の間に牌をかき混ぜる行為を、( A. 混牌 B. 椎牌 C. 洗牌 D. 弑牌 ) と言う。
- ⑨ リーチ後の見逃しは、( A. できる B. できない )。
- ⑩ 流局時のテンパイ宣言の順番は、( A. リーチ者→荘家→散家 B. リーチ者に関係なく荘家から )。


### 解答欄

①	②	③	④	⑤
⑥	⑦	⑧	⑨	⑩

## 問題 2 (2点×12)


次の条件でアガリ点が何点か答えよ。手牌にドラはなく、リーチはしていないものとする。

例 1 :  (東場東家) 2600 オール

例 2 :  (東場南家) 1300 / 2600

①  (東場南家)

②  (東場南家)

③  (東場南家)

④  (東場東家)

⑤  (東場東家)


⑥  (東場東家)

⑦  (東場南家)

⑧  (東場南家)

⑨  (東場南家)

⑩  (東場東家)

⑪  (東場東家)

⑫  (東場東家)

### 解答欄

①	②	③	④
⑤	⑥	⑦	⑧
⑨	⑩	⑪	⑫

### 問題 3 (1 点×6)

以下の麻雀用語を漢字にせよ。

- ① ペンチャン                      ② チュウレンポウトウ                      ③ チンロウトウ  
④ ポン                              ⑤ リャンペーコー                      ⑥ ジュンチャンタイヤオチュウ

解答欄

①	②	③
④	⑤	⑥

### 問題 4 (1 点×6)

以下の麻雀用語の読みをカタカナで答えよ。

- ① 荘家                              ② 海底摸月                              ③ 河底撈魚  
④ 尖張牌                              ⑤ 刻子                              ⑥ 零牌

解答欄

①	②	③
④	⑤	⑥

### 問題 5 (1 点×4)

当協会主催のタイトル戦の次のタイトルホルダーの名前をフルネームで答えよ。

- ① 第39期最高位                      ② 第14期女流最高位                      ③ 第22期發王位                      ④ 第9期 Classic

解答欄

①	②	③	④
---	---	---	---

## 問題 6 (2点×4)

次の牌姿が何待ちかを答えよ。ただし4枚使いの牌は書かないこと。

例： 

三六九

① 

② 

③ 

④ 

解答欄

①	②	③	④
---	---	---	---

## 問題 7 (2点×4)

テンパイチャンスをもっと多くする一打を全て答えよ。

例： 

六

① 

② 

③ 

④ 

解答欄

①	②	③	④
---	---	---	---

## 問題 8 (2点×4)

テンパイになる牌は何種何牌かを答えよ。

例： 4種 15牌

4種 15牌

①

②

③

④

解答欄

①	②	③	④
---	---	---	---

## 問題 9 (2点×4)

待ち牌を最も多くする一打を全て答えよ。

例： 4 7

4 7

①

②

③

④

解答欄

①	②	③	④
---	---	---	---

## 問題 10 (完答 4 点)

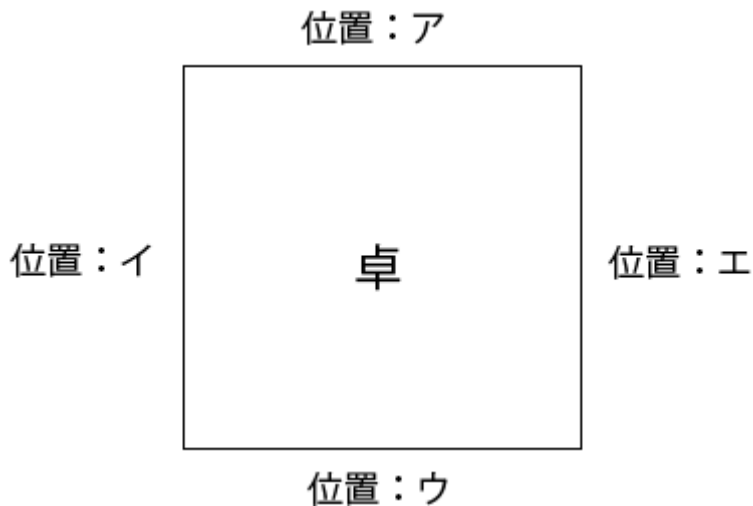
図のア、イ、ウ、エの位置に順に A、B、C、D が座り、A が最初のサイコロを振り、場所決めを開始した。

サイコロは順に 4, 11 と出て、用意された牌は C から見て 

北			南	西	東
---	---	--	---	---	---

 と並んだ。

それぞれの場所に座ったのは誰か、A、B、C、D で答えよ。



解答欄

ア	イ	ウ	エ
---	---	---	---

## 問題 11 (2 点×4)

状況：オーラス 2 本場 供託 2000 点 東家 30000 点 南家 32000 点 西家 23000 点 北家 33000 点

自分が西家である時、以下の条件を満たす最も低いアガリ点を答えよ。

解答欄には積み棒を含まない点数を書くこと。

- |              |               |
|--------------|---------------|
| ① ツモアガリで 1 着 | ② ツモアガリで 2 着  |
| ③ ツモアガリで 3 着 | ④ 北家からロンで 2 着 |

解答欄

①	②
③	④

## 問題 12 (3 点)

手牌に字牌はないが何を切っても高め役満の聴牌だった。

牌姿の一例を答えよ。(14 枚形で答えること・フリテンではない)

解答欄

## 問題 13 (3 点)

ある選手は東 1 局開始時点の配牌



から第一打に 二萬 を選択した。

ホンイツに向かうにしても何故、四萬 からではなく 二萬 からののか？

この選手の思考を説明せよ。

解答欄