

# 最高位戦

## 日本プロ麻雀協会

第40期前期プロ試験（関西） 制限時間 50分

### ----- 回答記入例 -----

一萬	二萬	三萬	④	⑤	⑥	7	8	9
----	----	----	---	---	---	---	---	---

 => 一二三 ④⑤⑥ 7 8 9

東	南	西	北	發	中
---	---	---	---	---	---

 => 東南西北白發中

※ 

發
---

 に関しては「R」「發」の表記でも可

点数を表記する場合 => 5200、2600オール、1300/2600

- A) 上記の通りに記入して下さい
- B) 問題は全て当協会の競技規定に拠るものとします
- C) 誤植等の質問以外は一切認めません
- D) この問題が配られたら受験番号・氏名を記入してお待ち下さい

受験番号	氏名（フリガナ）	点数
解答	解答（カイトウ）	/100

## 問題 1 (1 点×10)

文章中のカッコ内より当協会の正しい競技規定になるようにカッコ内の選択肢より記号を選びなさい。

例：麻雀牌は一式、( A. 132 枚 B. 136 枚 C. 140 枚 ) を用いる  B

- ① 役満の複合は、( A. いくつでも認める B. ダブルまで認める C. 認めない )。
- ② 嶺上開花と海底摸月は、( A. 複合する B. 複合しない C. メンゼン時のみ複合する )。
- ③ 人和は、( A. ない B. 満貫+加算役 C. 跳満+加算役 D. 倍満+加算役 E. 役満 )。
- ④ 一局は、( A. 投サイ B. 第一打の完了 C. 配牌の取り始め ) を以って開始とする。
- ⑤ セットボタンは、( A. 次の荘家が押す B. 次の荘家が押すが和了があれば和了者が押す )。
- ⑥ 空ポンの罰則は、( A. ない B. 1000 点供託 C. アガリ放棄 )。
- ⑦ 親の順番を間違えた場合は、( A. 正当でない局は無効 B. 現状のまま進める )。
- ⑧ チョンボ時に正当なアガリがあれば、( A. チョンボ優先 B. アガリ優先 C. 両方認められる )。
- ⑨ 半荘終了時に同点だった場合は、( A. 上家優先 B. 順位点をわける )。
- ⑩ テンパイ宣言は、( A. 親から B. トップ者から C. リーチ者から D. 全員同時に ) 行う。

### 解答欄

① C	② B	③ A	④ A	⑤ A
⑥ C	⑦ A	⑧ B	⑨ B	⑩ A



### 問題 3 (1 点×6)

以下の麻雀用語を漢字にせよ。

- ① ワンパイ                      ② フーロ                      ③ フリテン  
④ チー                              ⑤ メンゼンチンツモホウ                      ⑥ イーシャンテン

解答欄

① 王牌	② 副露	③ 振聴
④ 吃	⑤ 門前清自摸和	⑥ 一向聴

### 問題 4 (1 点×6)

以下の麻雀用語の読みをカタカナで答えよ。

- ① 開門                              ② 海底摸月                      ③ 河底撈魚  
④ 槍槓                              ⑤ 老頭牌                              ⑥ 壁牌

解答欄

① カイメン	② ハイテイモーユエ	③ ホウテイラオユイ
④ チャンカン	⑤ ロウトウパイ	⑥ ピーパイ

### 問題 5 (1 点×4)

当協会主催のタイトル戦の次のタイトルホルダーの名前をフルネームで答えよ。

- ① 第39期最高位                      ② 第14期女流最高位                      ③ 第22期發王位                      ④ 第9期 Classic

解答欄 ひらがなも可・漢字間違いはNG

① 村上 淳	② 大平 亜季	③ 水巻 渉	④ 村上 淳
--------	---------	--------	--------

## 問題 6 (2点×4)

次の牌姿が何待ちかを答えよ。ただし4枚使いの牌は書かないこと。

例： 

三六九

① 

② 

③ 

④ 

解答欄

① 1467	② 357	③ 36789	④ 12456789
--------	-------	---------	------------

## 問題 7 (2点×4)


テンパイチャンスをもっと多くする一打を全て答えよ。


例： 

六

① 

② 

③ 

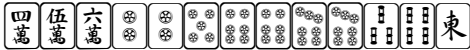
④ 

解答欄

① 5	② 14	③ 九	④ 七
-----	------	-----	-----

## 問題 8 (2点×4)

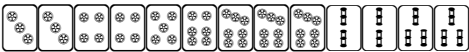
テンパイになる牌は何種何牌かを答えよ。

例：

4種 15牌

① 

② 

③ 

④ 

解答欄

① 17種55牌	② 13種41牌	③ 8種24牌	④ 7種16牌
----------	----------	---------	---------

## 問題 9 (2点×4)

待ち牌を最も多くする一打を全て答えよ。

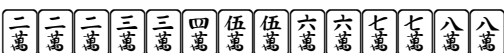
例：

④ ⑦

① 

② 

③ 

④ 

解答欄

① ②⑤⑧	② 四	③ 6	④ 五八
-------	-----	-----	------

## 問題 10 (完答 4 点)

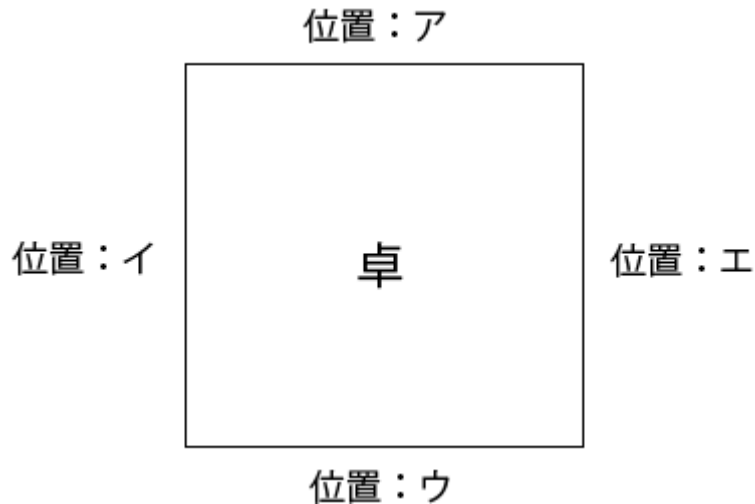
図のア、イ、ウ、エの位置に順に A、B、C、D が座り、A が最初のサイコロを振り、場所決めを開始した。

サイコロは順に 6, 11 と出て、用意された牌は C から見て 

北		南	西		東
---	--	---	---	--	---

 と並んだ。

それぞれの場所に座ったのは誰か、A、B、C、D で答えよ。



解答欄

ア <b>C</b>	イ <b>D</b>	ウ <b>B</b>	エ <b>A</b>
------------	------------	------------	------------

## 問題 11 (2 点×4)

状況：オーラス3本場 供託 2000 点 東家 35000 点 南家 32000 点 西家 22000 点 北家 29000 点

自分が西家である時、以下の条件を満たす最も低いアガリ点を答えよ。

解答欄には積み棒を含まない点数を書くこと。

- |            |             |
|------------|-------------|
| ① ツモアガリで1着 | ② ツモアガリで2着  |
| ③ ツモアガリで3着 | ④ 南家からロンで2着 |

解答欄

① <b>1800 / 3600</b>	② <b>1500 / 2900</b>
③ <b>800 / 1500</b>	④ <b>4500</b>

## 問題 12 (3 点)



ある牌姿は和了り牌が 2 種類で、A で和了ると一盃口のみ、B で和了ると三暗刻のみであった。



このような牌姿の一例を答えよ。(13 枚形で答えること)








解答欄

一三四四四五五五六 777


## 問題 13 (3 点)

東一局配給原点、西家がドラの  を 7 巡目にポンして打 、

 のツモ切りを挟んでさらに次順  をチーして打  とした。

 チー    ポン   

捨て牌：       

この瞬間、 が比較的安全だと判断できる理由について述べよ。

解答欄

両面で放銃するとすればひつつきの候補として④より 8 を優先したことになるので。