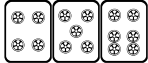
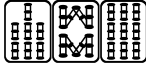


# 最高位戦

## 日本プロ麻雀協会

第40期前期プロ試験（北海道） 制限時間 50分

### ----- 回答記入例 -----

一萬	二萬	三萬		
----	----	----	---	---

 => 一二三 ④⑤⑥ 7 8 9

東	南	西	北	發	中
---	---	---	---	---	---

 => 東南西北白發中

※ 

發
---

 に関しては「R」「發」の表記でも可

点数を表記する場合 => 5200、2600オール、1300 / 2600

- A) 上記の通りに記入して下さい
- B) 問題は全て当協会の競技規定に拠るものとします
- C) 誤植等の質問以外は一切認めません
- D) この問題が配られたら受験番号・氏名を記入してお待ち下さい

受験番号	氏名（フリガナ）	点数
		/100

## 問題 1 (1 点×10)

文章中のカッコ内より当協会の正しい競技規定になるようにカッコ内の選択肢より記号を選びなさい。

例：麻雀牌は一式、( A. 132 枚 B. 136 枚 C. 140 枚 ) を用いる  B



- ① 嶺上自摸でのツモ符は、( A. 全てのカンにつく B. 大明槓ではつかない C. つかない )。
- ② オーラスの打牌の制約は、( A. 和了4着は不可 B. 他の着順を変える和了4着は不可 C. ない )。
- ③ 起家は、( A. 一度振り B. 二度振り C. 場決めの際の風牌 ) で決める。
- ④ 空ポンの罰則は、( A. ない B. 1000点供託 C. アガリ放棄 )。
- ⑤ ドラ表示牌の開け間違いは、( A. 親の第一打までは訂正できる B. 現状維持 )。
- ⑥ 晒し間違いは、( A. 晒した時点でアガリ放棄 B. 打牌前なら訂正できる )。
- ⑦ 見せ牌は、( A. 他家の指摘があれば有効 B. 必ず自己申告が必要 C. ない )。
- ⑧ ツモ番のないリーチはかけることが、( A. できる B. できない )。
- ⑨ 流局時のテンパイ宣言の順番は、( A. リーチ者→荘家→散家 B. リーチ者に関係なく荘家から )。
- ⑩ 開門のサイコロは、( A. 一度振り B. 東場は一度振り・南場は二度振り C. 二度振り )。



### 解答欄


①	②	③	④	⑤
⑥	⑦	⑧	⑨	⑩

## 問題 2 (2点×12)

次の条件でアガリ点が何点か答えよ。手牌にドラはなく、リーチはしていないものとする。




例 1 :   ツモ (東場東家) 2600 オール


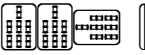

例 2 :   ツモ (東場南家) 1300 / 2600

①   南南  ツモ (東場南家)




②   西  ツモ (東場南家)

③    ツモ (東場南家)




④    ツモ (東場東家)

⑤    ツモ (東場東家)



⑥    ツモ (東場東家)

⑦   西  ロン (東場南家)

⑧    ロン (東場南家)

⑨    ロン (東場南家)

⑩    ロン (東場東家)

⑪    ロン (東場東家)

⑫    ロン (東場東家)

### 解答欄

①	②	③	④
⑤	⑥	⑦	⑧
⑨	⑩	⑪	⑫

### 問題 3 (1 点×6)

以下の麻雀用語を漢字にせよ。

- ① フーロ                      ② ペンチャン                      ③ チュウレンポウトウ  
④ シーパイ                      ⑤ リンシャンカイホウ                      ⑥ ポン

解答欄

①	②	③
④	⑤	⑥

### 問題 4 (1 点×6)

以下の麻雀用語の読みをカタカナで答えよ。

- ① 開門                              ② 壁牌                              ③ 老頭牌  
④ 零牌                              ⑤ 荘家                              ⑥ 河底撈魚

解答欄

①	②	③
④	⑤	⑥

### 問題 5 (1 点×4)

当協会主催のタイトル戦の次のタイトルホルダーの名前をフルネームで答えよ。

- ① 第39期最高位                      ② 第14期女流最高位                      ③ 第23期發王位                      ④ 第9期 Classic

解答欄

①	②	③	④
---	---	---	---

## 問題 6 (2 点×4)

次の牌姿が何待ちかを答えよ。ただし4枚使いの牌は書かないこと。

例： \_\_\_\_\_

三 六 九

①

②

③

④

解答欄

①	②	③	④
---	---	---	---

## 問題 7 (2 点×4)

テンパイチャンスをもっと多くする一打を全て答えよ。

例： \_\_\_\_\_

六

①

②

③

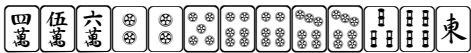
④

解答欄

①	②	③	④
---	---	---	---

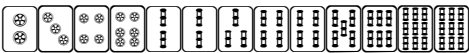
## 問題 8 (2点×4)


テンパイになる牌は何種何牌かを答えよ。


例： 

4種 15牌

① 

② 

③ 

④ 

解答欄


①	②	③	④
---	---	---	---

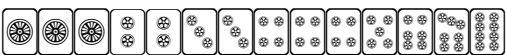
## 問題 9 (2点×4)

待ち牌を最も多くする一打を全て答えよ。

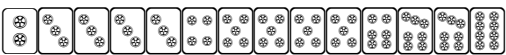
例： 

4 7

① 

② 

③ 

④ 

解答欄

①	②	③	④
---	---	---	---

## 問題 10 (完答 4 点)

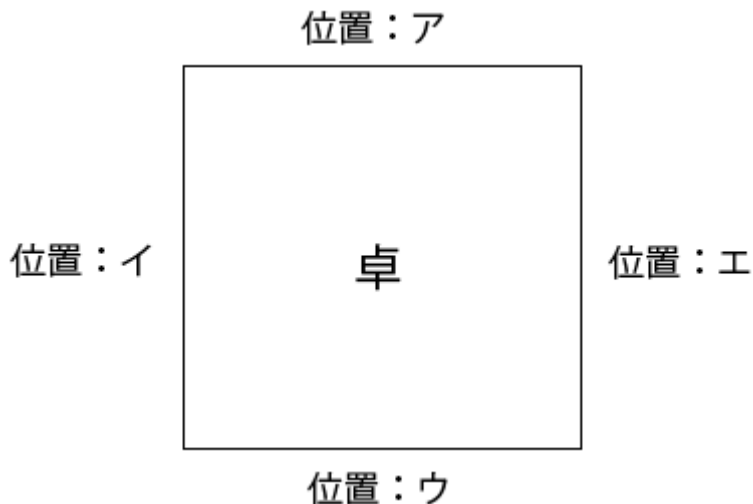
図のア、イ、ウ、エの位置に順に A、B、C、D が座り、A が最初のサイコロを振り、場所決めを開始した。

サイコロは順に 4, 10 と出て、用意された牌は C から見て 

北		南		東
---	--	---	--	---

 と並んだ。

それぞれの場所に座ったのは誰か、A、B、C、D で答えよ。



解答欄

ア	イ	ウ	エ
---	---	---	---

## 問題 11 (2 点×4)

状況：オーラス 4 本場 供託 3000 点 東家 35000 点 南家 32000 点 西家 21000 点 北家 29000 点

自分が西家である時、以下の条件を満たす最も低いアガリ点を答えよ。

解答欄には積み棒を含まない点数を書くこと。

- |                |                 |
|----------------|-----------------|
| ① ツモアガリで単独 1 着 | ② ツモアガリで単独 2 着  |
| ③ ツモアガリで単独 3 着 | ④ 南家からロンで単独 2 着 |

解答欄

①	②
③	④

## 問題 12 (3 点)

ある時あなたは下家のホンイツ仕掛けに3副露させてしまった。それに対して対局後、

上家「あんなミエミエのホンイツに3副露させるなんて他家の迷惑を考慮しろよ」



と言われた。





これに対するもっとも明確な反論として以下に続くコメントを考えよ。

私「仮に私が牌を絞ったとすると・・・」

解答欄

## 問題 13 (3 点)

東一局配給原点、西家がドラの  を7巡目にポンして打 、

 の手出しと  のツモ切りを挟んでさらに次順を  ポンして打  とした。

 ホン    ホン   

捨て牌：         

この瞬間最も危険だと思われる牌を、ひとつ答えよ。

解答欄