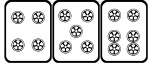
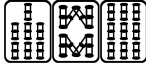


# 最高位戦

## 日本プロ麻雀協会

第40期後期プロ試験（関東） 制限時間 50分

### ----- 回答記入例 -----

一萬	二萬	三萬		
----	----	----	---	---

 => 一二三 ④⑤⑥ 7 8 9

東	南	西	北	發	中
---	---	---	---	---	---

 => 東南西北白發中

※ 

發
---

 に関しては「R」「發」の表記でも可

点数を表記する場合 => 5200、2600オール、1300 / 2600

- A) 上記の通りに記入して下さい
- B) 問題は全て当協会の競技規定に拠るものとします
- C) 誤植等の質問以外は一切認めません
- D) この問題が配られたら受験番号・氏名を記入してお待ち下さい

受験番号	氏名（フリガナ）	点数
		/100

## 問題 1 (1 点×10)

文章中のカッコ内より当協会の正しい競技規定になるようにカッコ内の選択肢より記号を選びなさい。

例：麻雀牌は一式、( A. 132 枚 B. 136 枚 C. 140 枚 ) を用いる  B

- ① 發が含まれていない緑一色は ( A. 認められる B. 認められない )。
- ② 三家和は、( A. 流局となる B. 頭ハネ C. 全て認められる )。
- ③ 一局は、( A. 投サイ B. 第一打の完了 C. 配牌の取り始め ) を以って開始とする。
- ④ 見せ牌は、( A. 他家の指摘があれば有効 B. 必ず自己申告が必要 C. ない )。
- ⑤ 四人一風が終わることを、( A. 半荘 B. 一源 C. 一界 D. 一圈 ) と言う。
- ⑥ 人和は、( A. ない B. 満貫+加算役 C. 跳満+加算役 D. 倍満+加算役 E. 役満 )。
- ⑦ パオは、( A. 特定の役満に適用 B. 特定の役満と大明槓に適用 C. ない )。
- ⑧ 裸単騎でのノーテン宣言は、( A. できる B. できない )。
- ⑨ 先ヅモをした者は ( A. 嚴重注意 B. アガリ放棄)。
- ⑩ オーラスの打牌の制約は、( A. 和了4着は不可 B. 他の着順を変える和了4着は不可 C. ない )。

### 解答欄

①	②	③	④	⑤
⑥	⑦	⑧	⑨	⑩



### 問題 3 (1 点×6)

以下の麻雀用語を漢字にせよ。

- ① ファンパイ                      ② ワンパイ                      ③ チャンタイヤオチュウ  
④ フーロ                          ⑤ シーパイ                      ⑥ チュウレンポウトウ

解答欄

①	②	③
④	⑤	⑥

### 問題 4 (1 点×6)

以下の麻雀用語の読みをカタカナで答えよ。

- ① 碰                                  ② 嵌張                              ③ 海底摸月  
④ 老頭牌                          ⑤ 壁牌                              ⑥ 零牌

解答欄

①	②	③
④	⑤	⑥

### 問題 5 (1 点×4)

当協会主催のタイトル戦の次のタイトルホルダーの名前をフルネームで答えよ。

- ① 第39期最高位              ② 第14期女流最高位      ③ 第22期發王位              ④ 第9期 Classic

解答欄

①	②	③	④
---	---	---	---





## 問題 10 (完答 4 点)

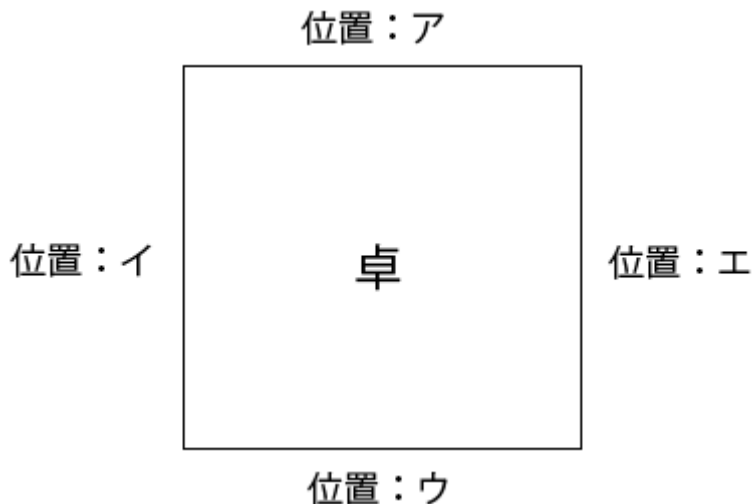
図のア、イ、ウ、エの位置に順に A、B、C、D が座り、A が最初のサイコロを振り、場所決めを開始した。

サイコロは順に 3, 10 と出て、用意された牌は C から見て 

北	東	南	西		
---	---	---	---	---	---

 と並んだ。

それぞれの場所に座ったのは誰か、A、B、C、D で答えよ。



解答欄

ア	イ	ウ	エ
---	---	---	---

## 問題 11 (2 点×4)

状況：オーラス 4 本場 供託 2000 点 東家 36000 点 南家 31000 点 西家 23000 点 北家 28000 点

自分が西家である時、以下の条件を満たす最も低いアガリ点を答えよ。

解答欄には積み棒を含まない点数を書くこと。

- |                |                 |
|----------------|-----------------|
| ① ツモアガリで単独 1 着 | ② ツモアガリで単独 2 着  |
| ③ ツモアガリで単独 3 着 | ④ 東家からロンで単独 2 着 |

解答欄

①	②
③	④

## 問題 12 (3 点)

最高位戦のリーグ戦は 1 日 4 半荘で行われる。対戦するメンツでトップ率 30% の実力の選手が 4 半荘で 1 回以上トップを取る可能性をパーセントで答えよ。

※「メンタル」などは考慮せず、どんな状況でもそのメンツではトップ率 30% とする

解答欄

## 問題 13 (3 点)

東家：  東  南    西

南家： 東  二萬  西  發  北  四萬

西家： 南  東   三萬  北

北家： 北  中  伍萬  七萬  西 

北家が全て手出しの立直の場合、”以下の解答群の中から最も可能性が低いと推察される 手役を答えよ”

[解答群]

ピンフ / タンヤオ / チートイツ / 一気通貫 / 三色同順 / 一盃口 / 混一色 / 清一色

チャンタ / ジュンチャン

解答欄