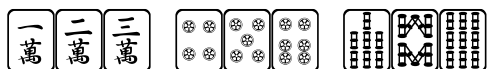



最高位戦

日本プロ麻雀協会

第 39 期後期プロ試験（関東） 制限時間 50 分

----- 回答記入例 -----

 => 一二三 ④⑤⑥ 7 8 9

 => 東南西北白發中

※  に関しては「R」「發」の表記でも可

点数を表記する場合 => 5200 、 2600 オール 、 1300 / 2600

- A) 上記の通りに記入して下さい
- B) 問題は全て当協会の競技規定に拠るものとします
- C) 手牌読み設問では、対局者は「ある程度手役を意識するが基本的には牌効率に従って、自分の河がどう見られるかを考慮せず、安牌を残すなどの防御も考慮せずに打つ」と考えて下さい
- D) 誤植等の質問以外は一切認めません
- E) この問題が配られたら受験番号・氏名を記入してお待ち下さい

受験番号	氏名（フリガナ）	点数
		/100

問題 1 (1 点×10)

文章中のカッコ内より当協会の正しい競技規定になるようにカッコ内の選択肢より記号を選びなさい。

例：麻雀牌は一式、(A. 132 枚 B. 136 枚 C. 140 枚) を用いる B

- ① テンパイ宣言は、(A. 親から B. トップ者から C. リーチ者から D. 全員同時に) 行う。
- ② 空ポンの罰則は、(A. ない B. 1000 点供託 C. アガリ放棄)。
- ③ 一局は、(A. 投サイ B. 第一打の完了 C. 配牌の取り始め) を以って開始とする。
- ④ 四人一風が終わることを、(A. 半荘 B. 一源 C. 一界 D. 一圈) と言う。
- ⑤ 役満の複合は、(A. いくつでも認める B. ダブルまで認める C. 認めない)。
- ⑥ リンシャンツモでのツモ符は、(A. 全てのカンにつく B. 大明槓ではつかない B. つかない)。
- ⑦ ロンを発声したがポンの場合は、(A. 認める B. アガリ放棄 C. チョンボ D. 注意の上認める)。
- ⑧ 打牌の制約は、(A. 和了 4 着は不可 B. 他の着順を変える和了 4 着は不可 C. ない)。
- ⑨

一萬	一萬	一萬	二萬	三萬	四萬	伍萬	伍萬	六萬	八萬	九萬	九萬	九萬
----	----	----	----	----	----	----	----	----	----	----	----	----

 でリーチ後、

九萬



 は、(A. 暗槓できる B. 暗槓できない)。
- ⑩ リンシャンカイホウと海底摸月は、(A. 複合する B. 複合しない C. メンゼン時のみ複合する)。



解答欄

①	②	③	④	⑤
⑥	⑦	⑧	⑨	⑩

問題 2 (2 点 × 10)

次の条件でアガリ点が何点か答えよ。手牌にドラはなく、リーチはしていないものとする。


例 1 :   ツモ (東場東家) 2600 オール

例 2 :   ツモ (東場南家) 1300 / 2600

①   ツモ (東場南家)

②   ツモ (東場南家)

③   ツモ (東場南家)

④   ツモ (東場南家)



⑤   ツモ (東場東家)

⑥   ツモ (東場東家)

⑦   ロン (東場南家)

⑧   ロン (東場南家)

⑨   ロン (東場東家)

⑩   ロン (東場東家)

解答欄

①	②	③	④	⑤
⑥	⑦	⑧	⑨	⑩

問題 3 (1 点×6)

以下の麻雀用語を漢字にせよ。

- ① シーパイ ② リンシャンカイホウ ③ リンチャン
④ イーシャンテン ⑤ テンパイ (漫画ではない) ⑥ メンゼンチンツモホウ

解答欄

①	②	③
④	⑤	⑥

問題 4 (1 点×6)

以下の麻雀用語の読みをカタカナで答えよ。

- ① 散家 ② 海底摸月 ③ 河底撈魚
④ 摸打 ⑤ 碰 ⑥ 刻子

解答欄

①	②	③
④	⑤	⑥

問題 5 (1 点×4)

当協会主催のタイトル戦の次のタイトルホルダーの名前をフルネームで答えよ。

- ① 第 3 8 期最高位 ② 第 1 3 期女流最高位 ③ 第 2 2 期發王位 ④ 第 8 期 Classic

解答欄

①	②	③	④
---	---	---	---

問題 6 (2点×4)

次の牌姿が何待ちかを答えよ。ただし4枚使いの牌は書かないこと。

例：

三六九

①

②

③

④

解答欄

①	種 牌	②	種 牌	③	種 牌	④	種 牌
---	-----	---	-----	---	-----	---	-----

問題 7 (2点×4)

テンパイチャンスをもっと多くする一打を全て答えよ。

例：

六

①

②

③

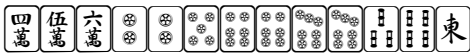
④

解答欄

①	②	③	④
---	---	---	---

問題 8 (2点×4)

テンパイになる牌は何種何牌かを答えよ。

例： 

4種 15牌

① 

② 

③ 

④ 

解答欄

①	②	③	④
---	---	---	---

問題 9 (2点×4)

待ち牌を最も多くする一打を全て答えよ。

例： 

4 7

① 

② 

③ 

④ 



解答欄

①	②	③	④
---	---	---	---

問題 10 (完答 4 点)

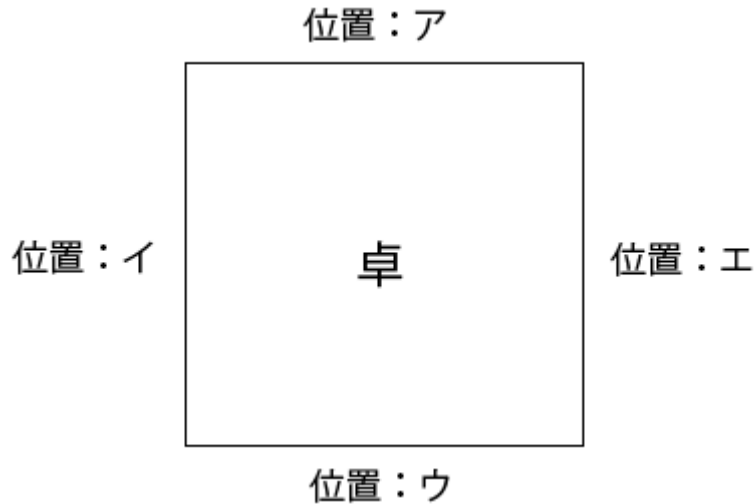
図のア、イ、ウ、エの位置に順に A、B、C、D が座り、A が最初のサイコロを振り、場所決めを開始した。

サイコロは順に 2, 11 と出て、用意された牌は C から見て

北		西	東	南	
---	-----------------------------------------------------------------------------------	---	---	---	-------------------------------------------------------------------------------------

 と並んだ。

それぞれの場所に座ったのは誰か、A、B、C、D で答えよ。



解答欄

ア	イ	ウ	エ
---	---	---	---

問題 11 (2 点×4)

状況：オーラス 3 本場 供託 1000 点 東家 35000 点 南家 32700 点 西家 23500 点 北家 27800 点

自分が西家である時、以下の条件を満たす最も低いアガリ点を答えよ。


解答欄には積み棒を含まない点数を書くこと。

- | | |
|--------------|---------------|
| ① ツモアガリで優勝 | ② ツモアガリで 2 着 |
| ③ ツモアガリで 3 着 | ④ 東家からロンで 2 着 |

解答欄

①	②
③	④

問題 12 (2 点)

オーラス、西家が  を捨てると東家と南家が同時に和了り宣言をした。

結局、東家の頭ハネの和了となったが、東家と南家は全く同じ牌姿で同じ打点だった。

リーチ・ドラはないものとして、このような牌姿の例を示せ。

解答欄

問題 13 (2 点)

現在、メンゼンテンパイをしているが、










一手でロンアガリの打点が 10 倍になる手変わりがある。

リーチ・ドラはないものとして、このような牌姿の例を示せ。


解答欄

問題 14 (2点×3)


  と東家が二副露している。

東家：東  一萬 
南家：東 中 一萬 西  北 
西家：南  八萬 四萬 四萬 三萬 
北家：一萬  西 發  中 

ここまで東家の河は全て手出しである。そして8巡目、西家の牌姿は以下の通りである。




安牌に窮した西家は苦渋の決断で  を捨てた。後で理由を聞いてみると3つあるようだ。

「1. チーして出した牌  のマタギは危ない」「2. 一回通せば安牌が増える」

もうひとつ考えられる理由を答えよ。(ドラや点数状況を考慮しない)

解答欄

結局、東家は次巡に  をツモ和了り、その時の牌姿が



であった。東家の入り目(テンパイになった時ツモった牌)を理由を添えて答えよ。

解答欄

また、東家の最終形を踏まえた上で、東家が6巡目に捨てた  を東家がツモった巡目を答えよ。

解答欄