

最高位戦

日本プロ麻雀協会

第39期後期プロ試験（関西） 制限時間 50分

----- 回答記入例 -----

一萬	二萬	三萬						
----	----	----	--	--	--	--	--	--

 => 一二三 ④⑤⑥ 7 8 9

東	南	西	北	發	中
---	---	---	---	---	---

 => 東南西北白發中

※

發

 に関しては「R」「發」の表記でも可

点数を表記する場合 => 5200 、 2600 オール 、 1300 / 2600

- A) 上記の通りに記入して下さい
- B) 問題は全て当協会の競技規定に拠るものとします
- C) 手牌読み設問では、対局者は「ある程度手役を意識するが基本的には牌効率に従って、自分の河がどう見られるかを考慮せず、安牌を残すなどの防御も考慮せずに打つ」と考えて下さい
- D) 誤植等の質問以外は一切認めません
- E) この問題が配られたら受験番号・氏名を記入してお待ち下さい

受験番号	氏名（フリガナ）	点数
		/100

問題 1 (1 点×10)

文章中のカッコ内より当協会の正しい競技規定になるようにカッコ内の選択肢より記号を選びなさい。

例：麻雀牌は一式、(A. 132 枚 B. 136 枚 C. 140 枚) を用いる B

- ① 複数者のロンは、(A. 全て認める B. 二人まで認める C. 全て頭ハネ)。
- ② 人和は、(A. ない B. 満貫+加算役 C. 跳満+加算役 D. 倍満+加算役 E. 役満)。
- ③ 起家は、(A. 一度振り B. 二度振り C. 場決めの際の風牌) で決める。
- ④ ポンとチーの優先順位は、(A. 発声優先 B. ポン優先)。
- ⑤ ツモ番のないリーチはかけることが、(A. できる B. できない)。
- ⑥ 裸単騎でのノーテン宣言は、(A. できる B. できない)。
- ⑦ チョンボのペナルティは、(A. 満貫払い B. 3000 点オール C. 20 ポイント D. 40 ポイント)。
- ⑧ パオは、(A. 特定の役満に適用 B. 特定の役満と大明槓に適用 C. ない)。
- ⑨ 半荘終了時残った供託は、(A. リーチ者に戻る B. トップ者に加算 C. 供託のまま)。
- ⑩ 副露メンツが複数ある場合は、(A. 右から左に B. 手前から奥に C. 奥から手前に) 並べる。

解答欄

①	②	③	④	⑤
⑥	⑦	⑧	⑨	⑩

問題 3 (1 点×6)

以下の麻雀用語を漢字にせよ。

- ① ホウジュウ ② チュウレンポウトウ ③ チンロウトウ
④ チャンタイヤオチュウ ⑤ パオ ⑥ チー

解答欄

①	②	③
④	⑤	⑥

問題 4 (1 点×6)

以下の麻雀用語の読みをカタカナで答えよ。

- ① 荘家 ② 海底摸月 ③ 河底撈魚
④ 嵌張 ⑤ 壁牌 ⑥ 副底

解答欄

①	②	③
④	⑤	⑥

問題 5 (1 点×4)

当協会主催のタイトル戦の次のタイトルホルダーの名前をフルネームで答えよ。

- ① 第38期最高位 ② 第13期女流最高位 ③ 第21期發王位 ④ 第8期 Classic

解答欄

①	②	③	④
---	---	---	---

問題 6 (2点×4)

次の牌姿が何待ちかを答えよ。ただし4枚使いの牌は書かないこと。

例：

三六九

①

②

③

④

解答欄

①	②	③	④
---	---	---	---

問題 7 (2点×4)

テンパイチャンスをもっと多くする一打を全て答えよ。

例：

六

①

②

③

④

解答欄

①	②	③	④
---	---	---	---

問題 10 (完答 4 点)

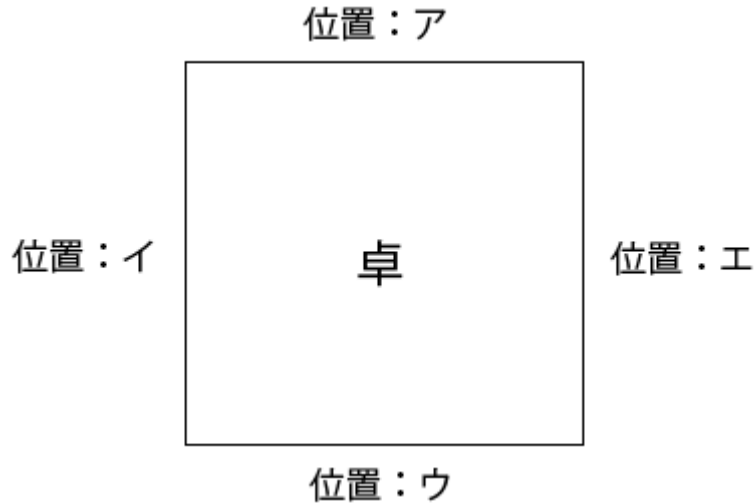
図のア、イ、ウ、エの位置に順に A、B、C、D が座り、A が最初のサイコロを振り、場所決めを開始した。

サイコロは順に 6, 12 と出て、用意された牌は C から見て

北		南		西	東
---	--	---	--	---	---

 と並んだ。

それぞれの場所に座ったのは誰か、A、B、C、D で答えよ。



解答欄

ア	イ	ウ	エ
---	---	---	---

問題 11 (2 点×4)

状況：オーラス 2 本場 供託 2000 点 東家 30400 点 南家 31500 点 西家 23100 点 北家 33000 点

自分が西家である時、以下の条件を満たす最も低いアガリ点を答えよ。



解答欄には積み棒を含まない点数を書くこと。

- | | |
|--------------|---------------|
| ① ツモアガリで優勝 | ② ツモアガリで 2 着 |
| ③ ツモアガリで 3 着 | ④ 東家からロンで 3 着 |

解答欄

①	②
③	④



問題 12 (完答 3 点)




流局して手牌を公開すると全員が   待ちだった。



全員の待ちの部分の形を答えよ。

解答欄 (4 通り)

問題 13 (3 点)

   と 1 つ副露している下家がいる。

下家の河：      

ここで  を打ち出すとさらに下家はチーをして、 を打ち出してきた。

次巡、下家はツモアガリをしたがその時の下家の牌姿は、

              ツモ

であった。

下家の和了型の伏せられた 3 枚を答えよ。

解答欄